

经全国中小学教材审定委员会
2005年初审通过

普通高中课程标准实验教科书

数学

选修 4-1

几何证明选讲

人民教育出版社 课程教材研究所 编著
中学数学课程教材研究开发中心



人民教育出版社
A版

普通高中课程标准实验教科书

数学

选修 4-1

几何证明选讲

人民教育出版社 课程教材研究所 编著
中学数学课程教材研究开发中心



人民教育出版社

A版

普通高中课程标准实验教科书

数 学

选修 4-1

几何证明选讲 (A 版)

人民教育出版社 课程教材研究所
中学数学课程教材研究开发中心 编著

*

人民教育出版社出版发行

网址: <http://www.pep.com.cn>

涿州市星河印刷有限公司印装 全国新华书店经销

*

开本: 890 毫米×1240 毫米 1/16 印张: 3.75 字数: 80 000

2007 年 1 月第 2 版 2008 年 6 月第 18 次印刷

ISBN 978-7-107-18638-7 定价: 4.00 元
G · 11728(课)

著作权所有·请勿擅用本书制作各类出版物·违者必究
如发现印、装质量问题,影响阅读,请与本社出版科联系调换。
(联系地址:北京市海淀区中关村南大街 17 号院 1 号楼 邮编:100081)

主 编：刘绍学

副 主 编：钱珮玲 章建跃

编 者：喻 平



责任编辑：章建跃

美术编辑：王俊宏 王 艾

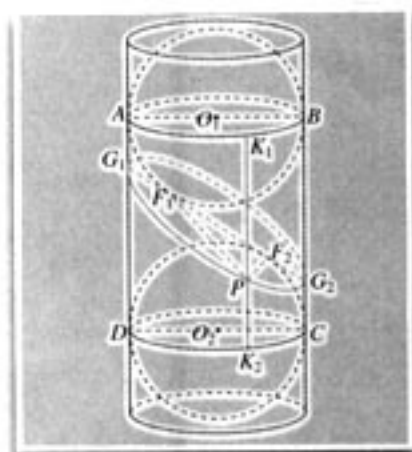
封面设计：林荣桓

目 录

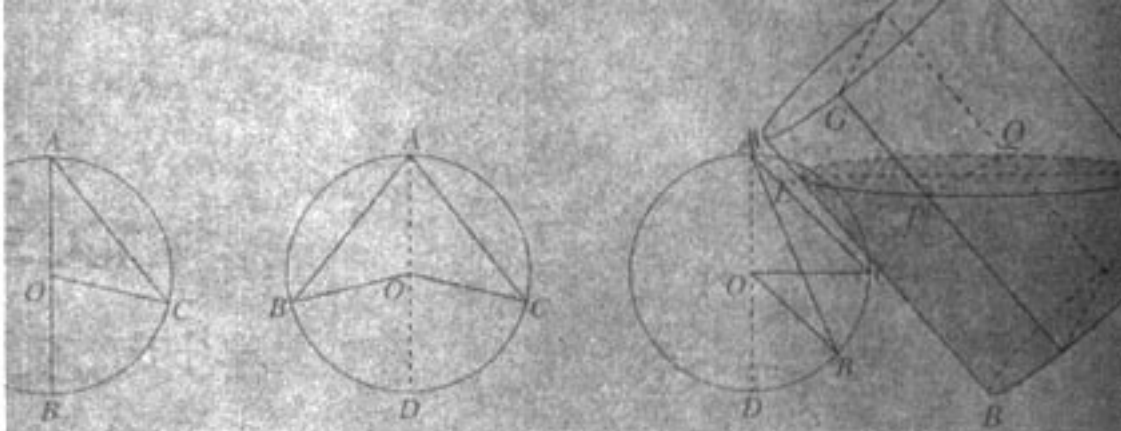
引言	1
第一讲 相似三角形的判定及有关性质	2
一 平行线等分线段定理	2
二 平行线分线段成比例定理	5
三 相似三角形的判定及性质	10
1. 相似三角形的判定	10
2. 相似三角形的性质	16
四 直角三角形的射影定理	20
第二讲 直线与圆的位置关系	24
一 圆周角定理	24
二 圆内接四边形的性质与判定定理	27
三 圆的切线的性质及判定定理	30
四 弦切角的性质	32
五 与圆有关的比例线段	34



第三讲 圆锥曲线性质的探讨	43
一 平行射影	43
二 平面与圆柱面的截线	45
三 平面与圆锥面的截线	48
学习总结报告	53



引言



我们依据《普通高中数学课程标准（实验）》编写了本册教科书。

本书是高中数学选修课程系列4中的一个专题，内容包括相似三角形的判定和性质、直线与圆的位置关系、圆锥曲线性质的探讨等。

在初中，同学们已经学习了相似图形的概念以及相似三角形的某些性质，但当时并没有对相似三角形的有关定理进行严格的证明。本书的第一讲，主要内容就是对这些定理进行证明，并应用它们去解决一些问题。为了证明这些定理，我们引入了平行线等分线段、平行线分线段成比例的有关内容，以组成一个相对严谨的逻辑体系。

第二讲，讨论直线与圆的位置关系，涉及圆周角、圆的内接四边形、圆的切线、弦切角、与圆有关的线段间的度量关系等内容。其中有的概念同学们在初中阶段已经学习过。本讲力求使这些知识融为一体，对相关定理进行严格论证，并注重知识的应用。

第三讲，讨论圆锥曲线的概念和性质。圆锥曲线包括椭圆、双曲线和抛物线，它们是解析几何研究的重要内容。在本讲中，我们选择了一个新的视角，用一个平面去截一个圆柱或圆锥，由平面与所截圆柱或圆锥中轴线的夹角变化去考察截面曲线的形状，得到椭圆、双曲线和抛物线，同时给出相关结论的证明。

在学习本书的过程中，应注意以下几点：


1. 注重证明。数学是一门严谨的科学，得出的结论都要经过严格的证明。正是这种严谨性，使数学学习成为训练同学们逻辑推理技能、提高逻辑思维能力的有效途径。本书突出数学证明的目的也在于此。

2. 强调过程。一般说来，正确的数学结论的形成需要“发现”和“证明”两个主要阶段，在这两个阶段中都包含着“过程”。数学知识有一个发生发展过程，通过数学学习，同学们可以领悟知识产生的背景，经历知识发展的过程，从而提升自己提出问题和解决问题的能力。因此，本书许多定理的引入和证明，都突出了其发生发展的过程。

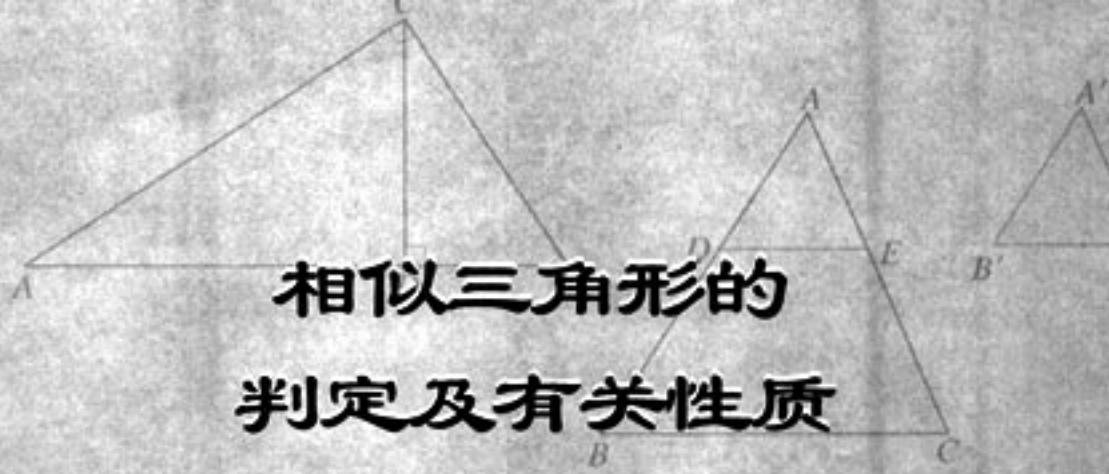
3. 突出思想。在陈述知识的同时，力求突出概念所反映的数学思想方法。因此，同学们在学习中，掌握知识的同时要努力领悟数学思想方法。

4. 加强探究。学习中，同学们应跟随书中的“观察”“思考”“探究”等，大胆探究问题。

希望同学们通过本书的学习，在知识的积累、数学能力的提高、对数学的理解和认识等方面都能更上一个台阶。



第一讲



相似三角形的判定及有关性质

在初中，我们已经在平面几何中讨论过平行线的一些性质和判定的问题。例如，如果两条直线同时平行于第三条直线，那么这两条直线互相平行；同位角相等，两直线平行；两直线平行，内错角相等……下面我们继续研究平行线的性质。



你还能回忆起更多的关于平行线的知识吗？

一 平行线等分线段定理

研究平行线的性质，就是在已知一组直线平行的条件下，探究可以推出哪些结论。例如，一组平行线被另一组平行的或非平行的直线所截（图 1-1），所得到的图形具有哪些性质呢？

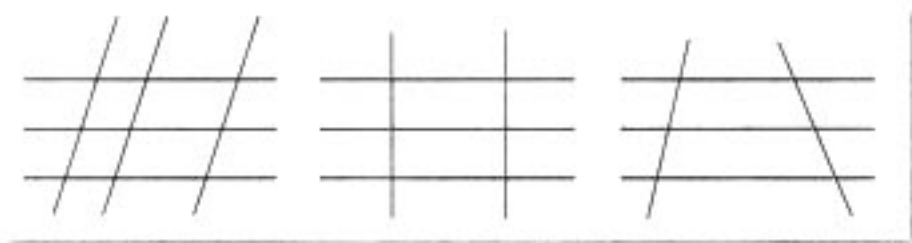


图 1-1

观察

如图 1-2，三条直线 l_1 、 l_2 、 l_3 满足 $l_1 \parallel l_2 \parallel l_3$ ，直线 $l \parallel l'$ ，且分别与 l_1 、 l_2 、 l_3 相交于 A_1 、 A_2 、 A_3 和 B_1 、 B_2 、 B_3 。当 $A_1A_2 = A_2A_3$ 时，观察图形，并测量线段 B_1B_2 、 B_2B_3 的长度，它们有什么关系？如果 l 与 l' 不平行（如图 1-3），上述关系还成立吗？

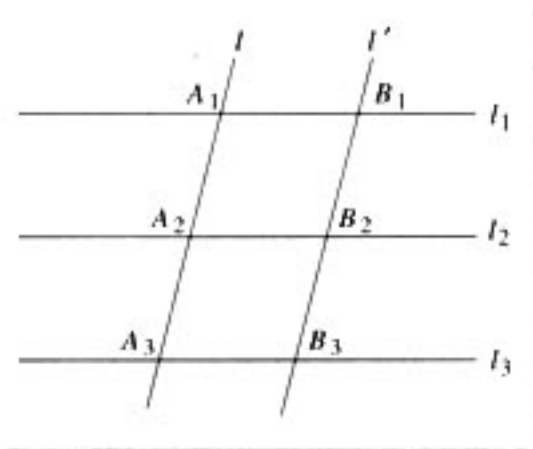


图 1-2

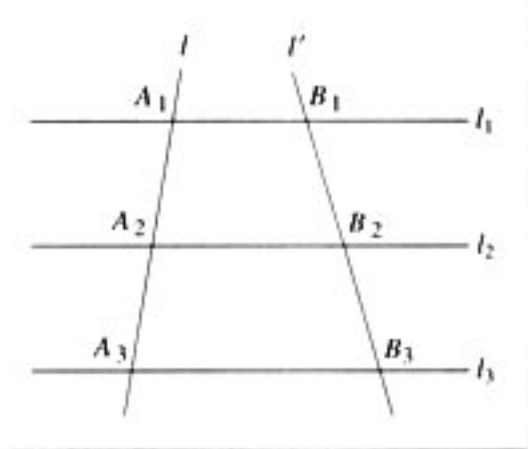


图 1-3

通过观察并测量，可以发现，无论 l 与 l' 是否平行，只要 $A_1A_2 = A_2A_3$ ，就有 $B_1B_2 = B_2B_3$ ，因此可以猜想：

已知 $l_1 \parallel l_2 \parallel l_3$ ，直线 l, l' 与 l_1, l_2, l_3 分别交于 A_1, A_2, A_3 和 B_1, B_2, B_3 ，如果 $A_1A_2 = A_2A_3$ ，那么 $B_1B_2 = B_2B_3$ 。

下面我们给出这个猜想的证明。

证明：(1) 如图 1-2，当 $l \parallel l'$ 时，

$\because l_1 \parallel l_2 \parallel l_3, l \parallel l'$,

\therefore 四边形 $A_1B_1B_2A_2$ 是平行四边形。

$\therefore B_1B_2 = A_1A_2$ 。

同理可证 $B_2B_3 = A_2A_3$ 。

$\because A_1A_2 = A_2A_3$,

$\therefore B_1B_2 = B_2B_3$ 。

(2) 当 l 与 l' 不平行时，如图 1-4，过 B_1 作 $B_1C_2 \parallel A_1A_2$ ，交 l_2 于 C_2 ；过 B_2 作 $B_2C_3 \parallel A_2A_3$ ，交 l_3 于 C_3 。同 (1) 的证明方法可得 $B_1C_2 = B_2C_3$ 。

考察 $\triangle B_1C_2B_2$ 和 $\triangle B_2C_3B_3$ 。

$\because B_1C_2 \parallel B_2C_3$ (为什么?)，

$\therefore \angle C_2B_1B_2 = \angle C_3B_2B_3$ 。

又 $\because \angle B_1B_2C_2 = \angle B_2B_3C_3, B_1C_2 = B_2C_3$ ，

$\therefore \triangle B_1C_2B_2 \cong \triangle B_2C_3B_3$ 。

$\therefore B_1B_2 = B_2B_3$ 。

于是，我们有

平行线等分线段定理 如果一组平行线在一条直线上截得的线段相等，那么在其他直线上截得的线段也相等。

将图 1-4 中的直线 l' 平移，使 l' 与 l_1 相交于 A_1 (图 1-5)，考察 $\triangle A_1A_3B_3$ ，因为 $A_1A_2 = A_2A_3$ ，所以根据平

由观察或测量得到的结论不一定可靠，必须通过严格的数学证明，才能得到正确的、具有一般意义的结论。你能证明这个猜想吗？

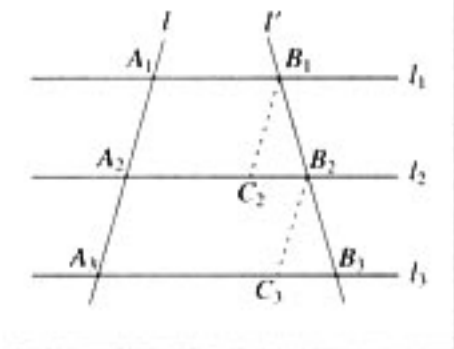


图 1-4

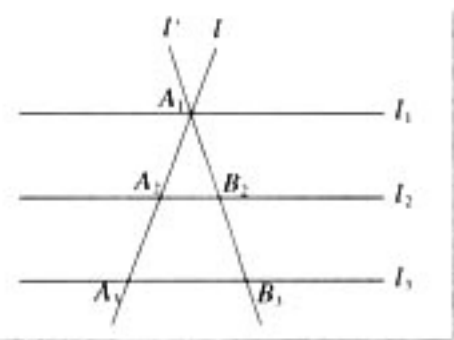


图 1-5

行线等分线段定理可得 $A_1B_2 = B_2B_3$ ，于是有

推论 1 经过三角形一边的中点与另一边平行的直线必平分第三边. ①



① 你能证明这个推论吗?

探究

考察图 1-4 中的梯形 $A_1A_3B_3B_1$ ，你能发现什么结论?

推论 2 经过梯形一腰的中点，且与底边平行的直线平分另一腰.

例 1 如图 1-6，要在一块钢板上的 A、B 两个小孔间再钻三个小孔，使这些小孔都在直线 AB 上，并且每两个相邻的小孔中心的距离相等。如果只有圆规和无刻度直尺，应当怎样确定小孔的中心位置?

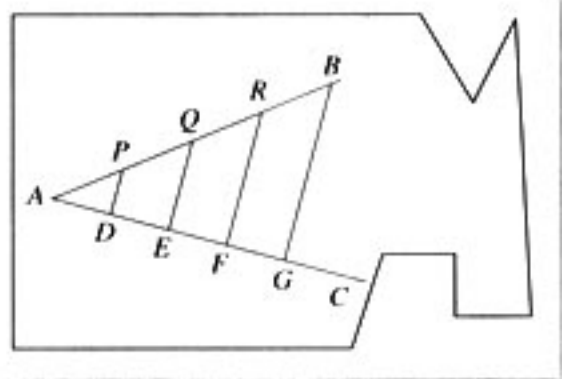


图 1-6

作法：(1) 连结 AB，过点 A 作适当射线 AC；
(2) 在射线 AC 上，以适当长 r 为半径，用圆规顺次截取 $AD = DE = EF = FG = r$ ；

(3) 连接 GB；

(4) 过点 F、E、D 分别作 GB 的平行线 FR、EQ、DP，分别交 AB 于点 R、Q、P。则 P、Q、R 就是中间三个小孔的中心位置。

你能说说上述作图方法的依据吗?

例 2 如图 1-7，D、E 分别是 $\triangle ABC$ 中 BC 边和 AC 边的中点，求证： $DE \parallel BC$ 且 $DE = \frac{1}{2}BC$ 。

这是已经学过的三角形中位线定理，下面我们利用平行线等分线段定理证明它。

证明：过 D 作 $DE' \parallel BC$ ，根据推论 1， E' 为 AC 的中点，而 E 是 AC 的中点，故 E 与 E' 重合，即 $DE \parallel BC$ 。

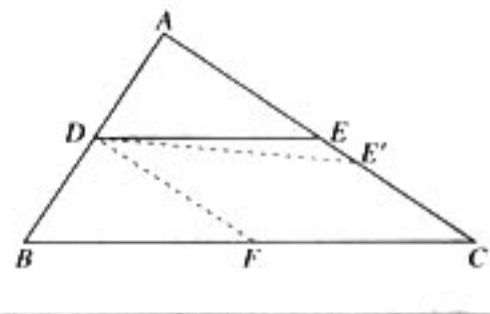


图 1-7

同样，过 D 作 $DF \parallel AC$ ，交 BC 于 F，则 $BF = FC$ 。

$\therefore DE \parallel FC, DF \parallel EC,$

\therefore 四边形 $DFCE$ 是平行四边形.

$\therefore DE = FC$.

又 $\because FC = \frac{1}{2}BC$,

$\therefore DE = \frac{1}{2}BC$.

一个数学命题的发现往往来自于对特例的观察和概括, 因为在特例中, 其命题的各种信息会更加明显, 容易被人们捕捉, 从而更容易发现条件与结论的内在联系. 将问题特殊化, 通过观察特殊现象而得出一般结论的猜想, 或者通过解决特例而获得解决一般问题的思想方法的启示, 这是数学研究中常用的方法. 请同学们回顾平行线等分线段定理的概括过程, 从中体会从特殊到一般的思考方法.

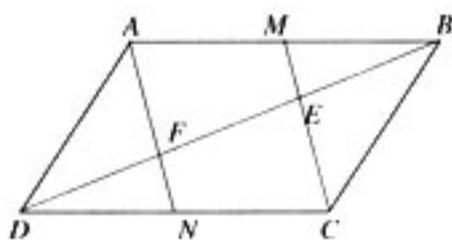


1. 画一条 6 厘米长的线段, 并把它 7 等分.

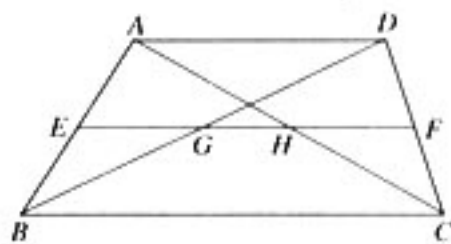
2. 已知: 如图, M 、 N 分别是 $\square ABCD$ 的 AB 、 CD 边的中点, CM 交 BD 于点 E , AN 交 BD 于点 F . 请你探讨 BE 、 EF 、 FD 三条线段之间的关系, 并给出证明.

3. 已知: 如图, 在梯形 $ABCD$ 中, $AD \parallel BC$, E 、 F 分别是 AB 、 DC 的中点, 连接 EF , 且 EF 交 BD 于 G , 交 AC 于 H .

求证: $GH = \frac{1}{2}(BC - AD)$.



(第 2 题)



(第 3 题)

二 平行线分线段成比例定理

我们看到, 平行线等分线段定理以“相邻两条平行线间的距离都相等”为条件, 如果一组平行线中相邻两条平行线间距离不相等, 又可以得出怎样的结论呢?

观察

如图 1-8, 两条直线被一组平行线所截, 当平行线间的距离不相等时, 所截得的线段 AB 与 BC 、 DE 与 EF 之间有什么关系?

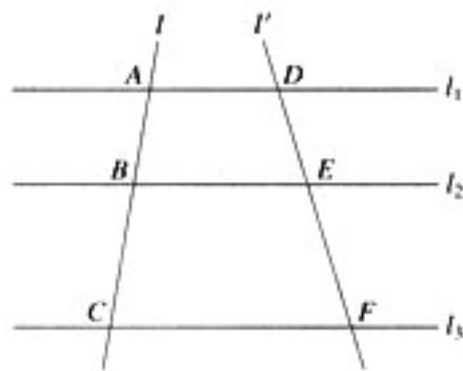


图 1-8

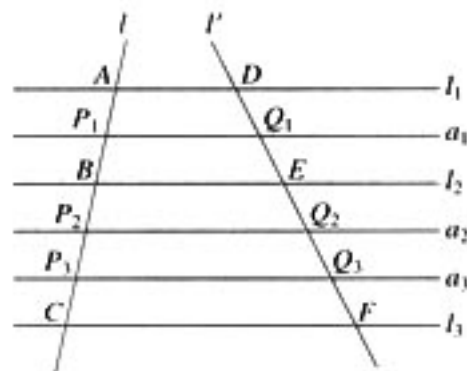


图 1-9

容易发现, $AB \neq BC$, $DE \neq EF$.

由以往学习平面几何的经验, 当几何图形不全等时, 可以考察它们是否相似, 而相似是通过“对应边成比例, 对应角相等”来表现的. 由此得到启发, 我们可以研究被一组平行线截得的线段是否有“对应边成比例”?

探究

在图 1-8 中, $\frac{AB}{BC}$ 与 $\frac{DE}{EF}$ 相等吗? 取 $\frac{AB}{BC} = \frac{2}{3}$ 的特殊情形进行探讨.

我们可以将上述问题化归为平行线间距离相等的情形.

如图 1-9, 如果 $\frac{AB}{BC} = \frac{2}{3}$, 设线段 AB 的中点为 P_1 , 线段 BC 的三等分点为 P_2 、 P_3 , 这时有

$$AP_1 = P_1B = BP_2 = P_2P_3 = P_3C.$$

分别过点 P_1 、 P_2 、 P_3 作直线 a_1 、 a_2 、 a_3 平行于 l_1 , 与 l' 的交点分别为 Q_1 、 Q_2 、 Q_3 . 由平行线等分线段定理可知:

$$DQ_1 = Q_1E = EQ_2 = Q_2Q_3 = Q_3F.$$

$$\therefore DE = DQ_1 + Q_1E = 2DQ_1,$$

$$EF = EQ_2 + Q_2Q_3 + Q_3F = 3DQ_1,$$

$$\therefore \frac{DE}{EF} = \frac{2DQ_1}{3DQ_1} = \frac{2}{3}$$

$$\therefore \frac{AB}{BC} = \frac{DE}{EF} \quad (1)$$

当 $\frac{AB}{BC}$ 为有理数时, 即 $\frac{AB}{BC} = \frac{m}{n}$ (m, n 是互质的正整数), AB 是长度单位的 m 倍, BC 是长度单位的 n 倍, 依照上面的方法, 可以证明 (1) 成立. 更一般地, 可以证明, 当 $l_1 // l_2 // l_3$, 且 $\frac{AB}{BC}$ 是实数时, (1) 式也成立.

由 (1) 式和比例性质, 可以得到

$$\frac{AB}{BC} = \frac{DE}{EF}, \frac{AB}{AC} = \frac{DE}{DF}, \frac{BC}{AC} = \frac{EF}{DF}$$

一般地, 我们有

平行线分线段成比例定理 三条平行线截两条直线, 所得的对应线段成比例.

观察图 1-10 和图 1-11, 它们是图 1-8 的特殊情形, 即 l 与 l' 的交点分别在 l_1, l_2 上, 根据平行线分线段成比例定理, 可得:

$$\frac{AD}{AB} = \frac{AE}{AC}$$

如果把图 1-10、1-11 中的直线 l_2 看成是平行于 $\triangle ABC$ 的 BC 边的直线, 那么可以得到:

推论 平行于三角形一边的直线截其他两边 (或两边的延长线) 所得的对应线段成比例.

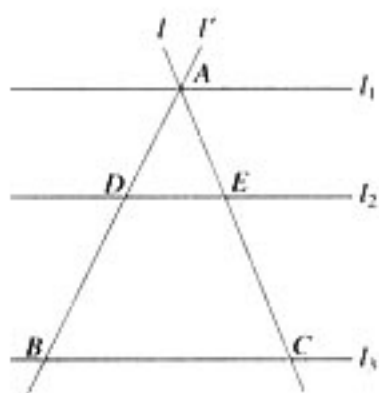


图 1-10

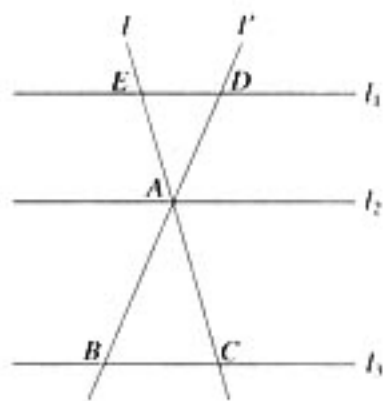


图 1-11

例 1 如图 1-12, $\triangle ABC$ 中, $DE // BC$, $DF // AC$, $AE = 4$, $EC = 2$, $BC = 8$. 求 BF 和 CF 的长.

解: $\because DE // BC$,

$$\therefore \frac{AD}{AB} = \frac{AE}{AC} = \frac{4}{6} = \frac{2}{3} \quad (1)$$

$\because DF // AC$,

如果 $\frac{a}{b} = \frac{c}{d}$, 那么 $\frac{b}{a} = \frac{d}{c}$, $\frac{a+b}{b} = \frac{c+d}{d}$ 成立吗?

设 $\frac{a}{b} = \frac{c}{d} = t$, 请你证明这两个等式 (比例的性质).

$$\therefore \frac{AD}{AB} = \frac{CF}{CB} \quad (2)$$

由 (1) (2) 式得:

$$\frac{2}{3} = \frac{CF}{8}, \text{ 即 } CF = \frac{16}{3}.$$

$$\therefore BF = 8 - \frac{16}{3} = \frac{8}{3}.$$

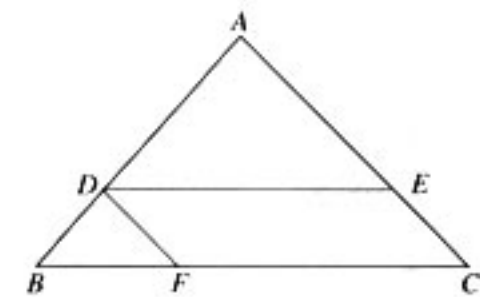


图 1-12

例 2 如图 1-13, $\triangle ABC$ 中, $DE \parallel BC$, $EF \parallel CD$. 求证: AD 是 AB 和 AF 的比例中项.

证明: 在 $\triangle ABC$ 中, $\because DE \parallel BC$,

$$\therefore \frac{AB}{AD} = \frac{AC}{AE} \quad (1)$$

在 $\triangle ADC$ 中, $\because EF \parallel CD$,

$$\therefore \frac{AD}{AF} = \frac{AC}{AE} \quad (2)$$

由 (1) (2) 式得

$$\frac{AB}{AD} = \frac{AD}{AF}$$

$\therefore AD^2 = AB \cdot AF$, 即 AD 是 AB 和 AF 的比例中项.

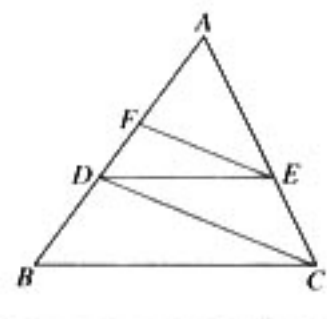


图 1-13

例 3 用平行于三角形一边且和其他两边相交的直线截三角形, 所截得的三角形的三边与原三角形的三边对应成比例.

已知: 如图 1-14, $DE \parallel BC$, DE 分别交 AB 、 AC 于点 D 、 E .

求证: $\frac{AD}{AB} = \frac{AE}{AC} = \frac{DE}{BC}$.

分析: 由平行线分线段成比例定理的推论可直接得到 $\frac{AD}{AB} = \frac{AE}{AC}$. 为了用平行线分线段成比例定理证明 $\frac{AE}{AC} = \frac{DE}{BC}$, 需要构造一组平行线, 使 AE 、 AC 、 DE 、 BC 成为由这组平行线截得的线段. 只要过点 E 作 $EF \parallel AB$, 交 BC 于点 F , 就可以达到上述目的.

证明: 过点 E 作 $EF \parallel AB$, 交 BC 于点 F ,

$\because DE \parallel BC, EF \parallel AB$,

$$\therefore \frac{AD}{AB} = \frac{AE}{AC}, \frac{BF}{BC} = \frac{AE}{AC},$$

且四边形 $DEFB$ 为平行四边形.

$\therefore DE = BF$.

$$\therefore \frac{AE}{AC} = \frac{DE}{BC}.$$

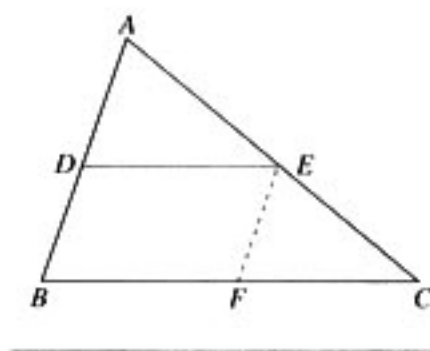


图 1-14

$$\therefore \frac{AD}{AB} = \frac{AE}{AC} = \frac{DE}{BC}$$

“平行线分线段成比例定理”是平面几何中的定理，一个自然的想法是，这个定理在空间中也成立吗？请你自己完成这个探究。

实际上，命题的推广可以有不同的方向。例如，在“平行线分线段成比例定理”中，如果将平行线改为平行平面，也可以探究相应命题是否成立。请完成下列探究。

探究

如图 1-15，直线 l_1 、 l_2 被三个平行平面 α 、 β 、 γ 所截，直线 l_1 与它们的交点分别为 A 、 B 、 C ，直线 l_2 与它们的交点分别为 D 、 E 、 F 。 $\frac{AB}{BC}$ 与 $\frac{DE}{EF}$ 相等吗？

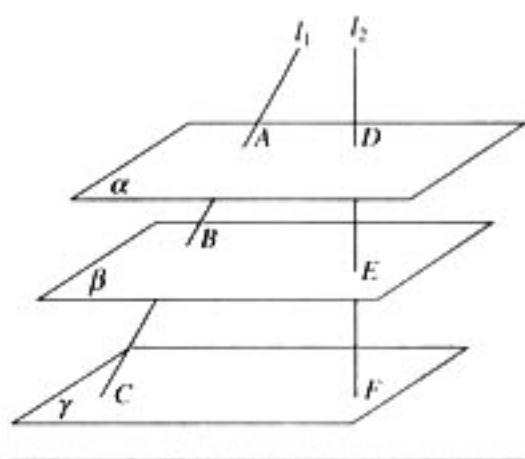


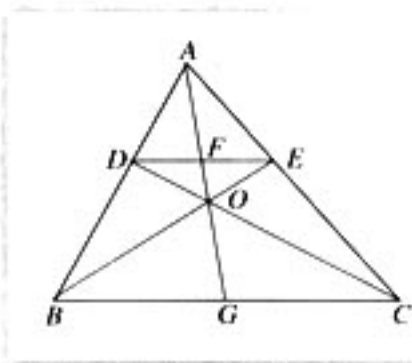
图 1-15



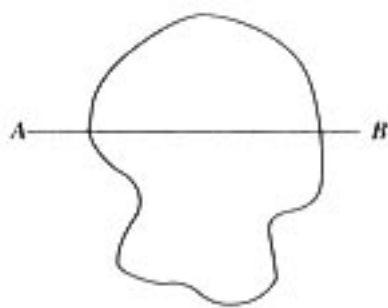
1. 已知 AB 、 CD 为梯形 $ABCD$ 的底，对角线 AC 、 BD 的交点为 O ，且 $AB=8$ ， $CD=6$ ， $BD=15$ 。求 OB 、 OD 的长。

2. 如图，在 $\triangle ABC$ 中，作平行于 BC 的直线交 AB 于 D ，交 AC 于 E 。如果 BE 和 CD 相交于 O ， AO 和 DE 相交于 F ， AO 的延长线和 BC 相交于 G 。证明：

- (1) $\frac{BG}{GC} = \frac{DF}{FE}$ ； (2) $BG=GC$ 。



(第 2 题)



(第 3 题)

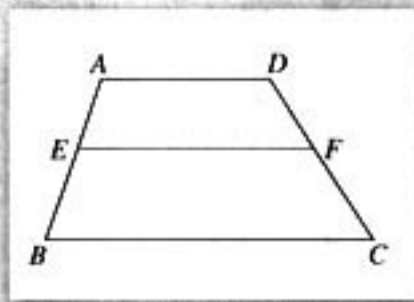
3. 如图, A 、 B 两点间隔一个湖泊, 因而 A 、 B 两点间的距离无法直接测量. 请你设计一个间接测量 AB 长度的方案, 并说明所设计方案的合理性.

4. 如图, 梯形 $ABCD$ 中, 点 E 、 F 分别在 AB 、 CD 上, $EF \parallel AD$. 假设 EF 作上下平行移动,

(1) 如果 $\frac{AE}{EB} = \frac{1}{2}$, 求证: $3EF = BC + 2AD$;

(2) 如果 $\frac{AE}{EB} = \frac{2}{3}$, 求证: $5EF = 2BC + 3AD$;

(3) 请你探究一般结论. 即如果 $\frac{AE}{EB} = \frac{m}{n}$, 那么可以得到什么结论.



(第 4 题)

三 相似三角形的判定及性质

1. 相似三角形的判定

先回顾初中已学的相似三角形知识.

定义 对应角相等, 对应边成比例的两个三角形叫做相似三角形. 相似三角形对应边的比值叫做相似比 (或相似系数).

由于从定义出发判断两个三角形是否相似, 需要考虑 6 个元素, 即三组对应角是否分别相等, 三组对应边是否分别成比例, 显然比较麻烦. 所以我们曾经给出过如下几个判定两个三角形相似的简单方法:

- (1) 两角对应相等, 两三角形相似;
- (2) 两边对应成比例且夹角相等, 两三角形相似;
- (3) 三边对应成比例, 两三角形相似.

下面对这些判定方法进行严格证明.

如图 1-16, 在 $\triangle ABC$ 中, D 、 E 分别是 AB 、 AC 边上的点, 且 $DE \parallel BC$. 由上一节的例 3 可知, $\triangle ADE$ 和 $\triangle ABC$ 的三边对应成比例. 又由 $DE \parallel BC$ 可得, $\angle ADE = \angle B$, $\angle AED = \angle C$, 而 $\angle A$ 是公共角, 因此 $\triangle ADE \sim \triangle ABC$.

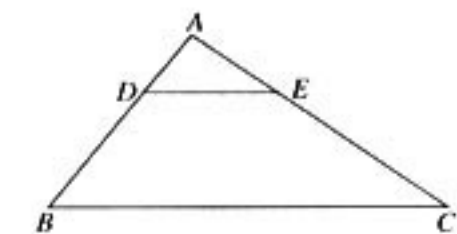


图 1-16

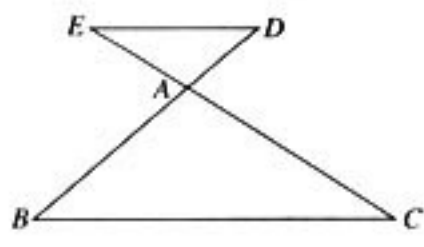


图 1-17

探究

如果 D 、 E 交于 BA 、 CA 的延长线上，且 $DE \parallel BC$ (图 1-17)，那么结论是否还成立？

对于图 1-17 的情形，同样可以证明 $\triangle ADE \sim \triangle ABC$ 。这是判定两个三角形相似的一个定理，我们把它称为预备定理。

预备定理 平行于三角形一边的直线和其他两边（或两边的延长线）相交，所构成的三角形与原三角形相似。

下面从预备定理出发，看看能否得出一些新的结论。

可以发现，只要 $DE \parallel BC$ ，无论 D 、 E 在 AB 、 AC 边上的什么位置，都有 $\triangle ADE \sim \triangle ABC$ 。如图 1-18，如果 $D_i E_i \parallel BC$ ($i=1, 2, \dots$)，那么也有 $\triangle ABC \sim \triangle AD_i E_i$ ($i=1, 2, \dots$)。从运动变化的观点看，由于 $DE \parallel BC$ ，因此在 D 、 E 的变化过程中， $\triangle ADE$ 的边长在改变，而角的大小始终不变。这说明，只要两个三角形的三个对应角相等，那么它们就相似。又由于三角形的内角和为 180° ，所以只要两个三角形中有两个对应角相等，那么第三个对应角一定相等，这样就有“两角对应相等，两三角形相似”。

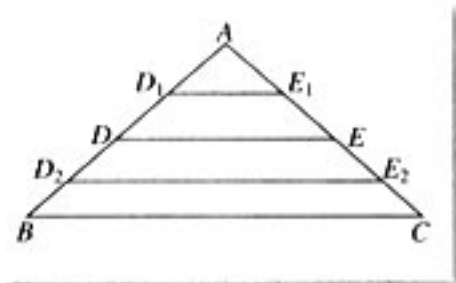


图 1-18

一般地，我们有

判定定理 1 对于任意两个三角形，如果一个三角形的两个角与另一个三角形的两个角对应相等，那么这两个三角形相似。简述为：两角对应相等，两三角形相似。

已知：如图 1-19，在 $\triangle ABC$ 和 $\triangle A'B'C'$ 中， $\angle A = \angle A'$ ， $\angle B = \angle B'$ 。

求证： $\triangle ABC \sim \triangle A'B'C'$ 。

证明：在 $\triangle ABC$ 的边 AB （或 AB 的延长线）上，截取 $AD = A'B'$ ，过点 D 作 $DE \parallel BC$ ，交 AC 于点 E 。由预备定理得：

$$\triangle ADE \sim \triangle ABC.$$

$$\therefore \angle ADE = \angle B, \angle B = \angle B',$$

$$\therefore \angle ADE = \angle B'.$$

$$\therefore \angle A = \angle A', AD = A'B',$$

$$\therefore \triangle ADE \cong \triangle A'B'C'.$$

$$\therefore \triangle ABC \sim \triangle A'B'C'.$$

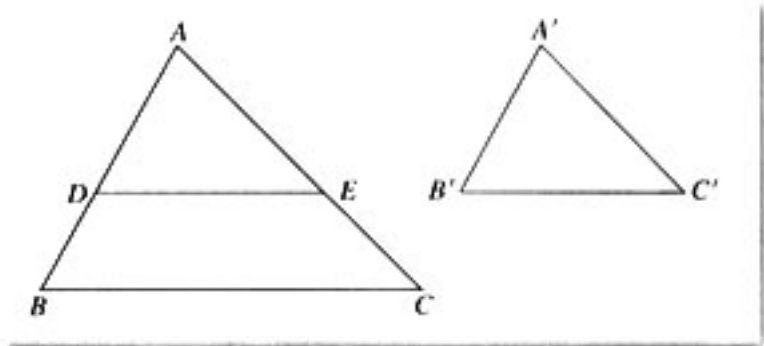


图 1-19

例 1 如图 1-20，在 $\triangle ABC$ 中， $AB = AC$ ， D 是 AC 边上一点， $BD = BC$ 。求证： $BC^2 = AC \cdot CD$ 。

分析: 要证明 $BC^2 = AC \cdot CD$, 即证明 $\frac{AC}{BC} = \frac{BC}{CD}$, 只要证明 AC 、 BC 和 BC 、 CD 为一对相似三角形的两组对应边即可. 为此, 要证明 $\triangle ABC$ 和 $\triangle BDC$ 相似.

证明: $\because \triangle ABC$ 是等腰三角形,

$$\therefore \angle A = 180^\circ - 2\angle C.$$

$\because \triangle BCD$ 也是等腰三角形,

$$\therefore \angle DBC = 180^\circ - 2\angle C.$$

$$\therefore \angle A = \angle DBC.$$

又 $\because \angle C$ 是公共角,

$$\therefore \triangle ABC \sim \triangle BDC.$$

$$\therefore \frac{AC}{BC} = \frac{BC}{CD}, \text{ 即 } BC^2 = AC \cdot CD.$$

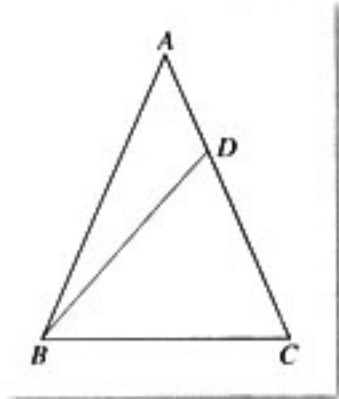


图 1-20

例 2 如图 1-21, 圆内接 $\triangle ABC$ 的角平分线 CD 延长后交圆于一点 E .

求证: $\frac{EB}{EC} = \frac{DB}{CB}$.

分析: 要证 $\frac{EB}{EC} = \frac{DB}{CB}$, 应考虑 EB 、 EC 、 DB 、 CB 这四条线段所在的两个三角形是否相似. EB 、 DB 在 $\triangle EBD$ 中, EC 、 CB 在 $\triangle ECB$ 中, 因此可以考虑证明 $\triangle EBD$ 与 $\triangle ECB$ 相似.

证明: 由已知条件, 可得 $\angle ACE = \angle BCE$.

$\because \angle ACE$ 与 $\angle ABE$ 是同弧上的圆周角,

$$\therefore \angle ACE = \angle ABE.$$

$$\therefore \angle BCE = \angle ABE.$$

又 $\because \angle BED = \angle CEB$,

$$\therefore \triangle EBD \sim \triangle ECB.$$

$$\therefore \frac{EB}{EC} = \frac{DB}{CB}.$$

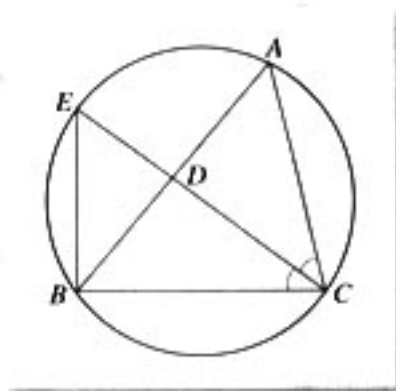


图 1-21

探究

沿着“从运动变化中找不变性”的思路, 可以发现, 在图 1-18 中, 对于 DE 的任意一个位置, $\angle A$ 是 $\triangle ABC$ 和 $\triangle ADE$ 的公共角, 而且 $\frac{AD}{AC} = \frac{AE}{AB}$, 即两边对应成比例, 夹角相等. 满足这两个条件时, 两个三角形是否一定相似? 你能否依照判定定理 1 的证明思路证明它?

判定定理 2 对于任意两个三角形，如果一个三角形的两边和另一个三角形的两边对应成比例，并且夹角相等，那么这两个三角形相似。简述为：两边对应成比例且夹角相等，两三角形相似。

已知：如图 1-22，在 $\triangle ABC$ 和 $\triangle A'B'C'$ 中， $\angle A = \angle A'$ ， $\frac{A'B'}{AB} = \frac{A'C'}{AC}$ 。

求证： $\triangle ABC \sim \triangle A'B'C'$ 。

分析：如图 1-22，在 $\triangle ABC$ 的边 AB 、 AC （或它们的延长线）上截取 $AD = A'B'$ ， $AE = A'C'$ ，连接 DE ，因为 $\angle A = \angle A'$ ，所以 $\triangle ADE \cong \triangle A'B'C'$ 。这样，我们可以通过证明 $\triangle ABC \sim \triangle ADE$ 而证明 $\triangle ABC \sim \triangle A'B'C'$ 。由预备定理可知，只要证明 $DE \parallel BC$ ，就可以得到 $\triangle ABC \sim \triangle ADE$ 。

由条件 $\frac{A'B'}{AB} = \frac{A'C'}{AC}$ 以及 $AD = A'B'$ ， $AE = A'C'$ ，有

$$\frac{AD}{AB} = \frac{AE}{AC}$$

于是，如果能从 $\frac{AD}{AB} = \frac{AE}{AC}$ 推出 $DE \parallel BC$ ，那么就

能得到判定定理 2 的证明。

由平行线分线段成比例定理的推论可知，当 $DE \parallel BC$ 时，有 $\frac{AD}{AB} = \frac{AE}{AC}$ 。因而我们猜想，这个推论的逆命题可能是成立的。这样，我们需要先证明下面的命题。

引理 如果一条直线截三角形的两边（或两边的延长线）所得的对应线段成比例，那么这条直线平行于三角形的第三边。

已知：如图 1-23， $\triangle ABC$ 中，点 D 、 E 分别在边 AB 、 AC 上，且 $\frac{AD}{AB} = \frac{AE}{AC}$ 。

求证： $DE \parallel BC$ 。

证明：过 D 作直线 $DE' \parallel BC$ ，交 AC 于点 E' 。则

$$\frac{AD}{AB} = \frac{AE'}{AC} \quad (\text{为什么?})$$

$$\therefore \frac{AD}{AB} = \frac{AE}{AC}$$

$$\therefore \frac{AE}{AC} = \frac{AE'}{AC}$$

$$\therefore AE = AE'$$

因此点 E 与点 E' 重合，即直线 DE' 与直线 DE 重合，所以 $DE \parallel BC$ 。

请同学们写出判定定理 2 的证明过程。

在探究数学问题的过程中，应当做到“步步有据”。有时，为了寻找某个步骤的推理依据，往往会产生一个原问题的辅助问题。数学家把这种辅助问题称为引理。显然，引理的

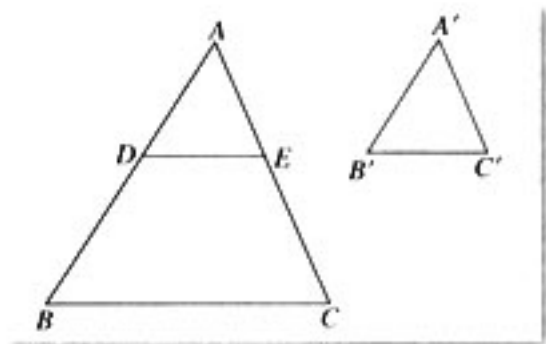


图 1-22

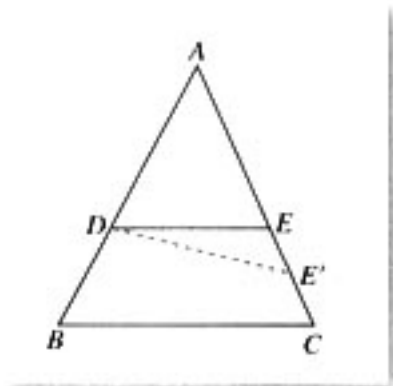


图 1-23

证明为解决原问题奠定了基础.

当直接证明一个问题比较困难时, 往往采用间接的方法. 上述引理的证明采用的“同一法”就是一种间接证明方法. 应用同一法证明问题时, 往往先作出一个满足命题结论的图形, 然后证明图形符合命题已知条件, 确定所作图形与题设条件所指的图形相同, 从而证明命题成立.

探究

判定定理 2 的证明可以采用判定定理 1 的思路, 即在 AB 上截取 $AD=A'B'$, 过 D 作 $DE \parallel BC$, 交 AC 于点 E ……这样就可以绕开引理, 殊途同归. 你能给出证明吗?

例 3 如图 1-24, 在 $\triangle ABC$ 内任取一点 D , 连接 AD 和 BD . 点 E 在 $\triangle ABC$ 外, $\angle EBC = \angle ABD$, $\angle ECB = \angle DAB$. 求证: $\triangle DBE \sim \triangle ABC$.

证明: 在 $\triangle DBE$ 与 $\triangle ABC$ 中, $\angle DBE = \angle EBC + \angle CBD$, $\angle ABC = \angle ABD + \angle DBC$.

$$\because \angle ABD = \angle EBC,$$

$$\therefore \angle DBE = \angle ABC. \quad (1)$$

在 $\triangle ABD$ 和 $\triangle CBE$ 中, 由已知条件有

$$\angle EBC = \angle DBA, \angle ECB = \angle DAB,$$

$$\therefore \triangle ABD \sim \triangle CBE.$$

$$\therefore \frac{BE}{BD} = \frac{BC}{AB},$$

$$\text{即 } \frac{BE}{BC} = \frac{BD}{AB}. \quad (2)$$

综合 (1) (2) 式, 由判定定理 2 知

$$\triangle DBE \sim \triangle ABC.$$

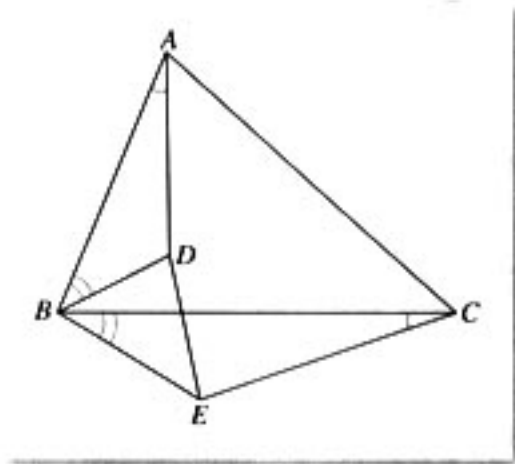


图 1-24

研究两个三角形相似的判定问题, 除了上面的方法外, 还可以通过与三角形全等的判定进行类比, 得出有关猜想. 例如, 类比“三边对应相等, 两三角形全等”, 可以得猜想: “三边对应成比例, 两三角形全等”.

判定定理 3 对于任意两个三角形, 如果一个三角形的三条边和另一个三角形的三条边对应成比例, 那么这两个三角形相似. 简述为: 三边对应成比例, 两三角形相似.

已知: 如图 1-25, 在 $\triangle ABC$ 和 $\triangle A'B'C'$ 中, $\frac{A'B'}{AB} = \frac{B'C'}{BC} = \frac{C'A'}{CA}$.

求证: $\triangle A'B'C' \sim \triangle ABC$.

证明: 在 $\triangle ABC$ 的边 AB (或延长线) 上截取 $AD=A'B'$, 过点 D 作 $DE \parallel BC$, 交 AC 于点 E . 于是可得

$$\frac{AD}{AB} = \frac{DE}{BC} = \frac{EA}{CA},$$

$$\triangle ADE \sim \triangle ABC.$$

$$\therefore AD = A'B',$$

$$\therefore \frac{AD}{AB} = \frac{A'B'}{AB}.$$

$$\text{又} \because \frac{A'B'}{AB} = \frac{B'C'}{BC} = \frac{C'A'}{CA},$$

$$\therefore \frac{DE}{BC} = \frac{B'C'}{BC}, \frac{EA}{CA} = \frac{C'A'}{CA}.$$

$$\therefore DE = B'C', EA = C'A',$$

$$\therefore \triangle ADE \cong \triangle A'B'C',$$

$$\therefore \triangle A'B'C' \sim \triangle ABC.$$

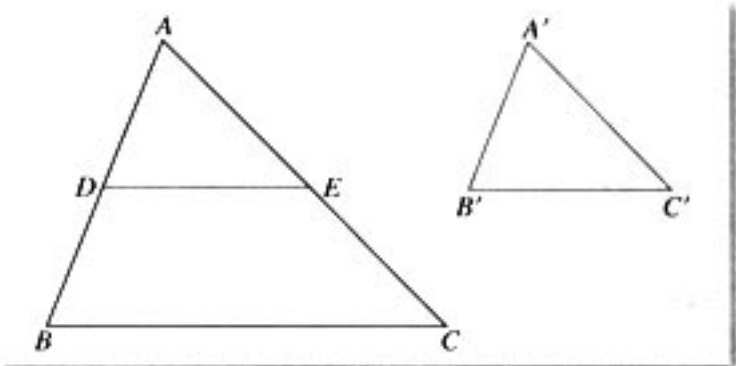


图 1-25

例 4 如图 1-26, 已知 D 、 E 、 F 分别是 $\triangle ABC$ 三边 BC 、 CA 、 AB 的中点, 求证: $\triangle DEF \sim \triangle ABC$.

证明: \because 线段 EF 、 FD 、 DE 都是 $\triangle ABC$ 的中位线,

$$\therefore EF = \frac{1}{2}BC, FD = \frac{1}{2}CA, DE = \frac{1}{2}AB.$$

$$\therefore \frac{EF}{BC} = \frac{FD}{CA} = \frac{DE}{AB} = \frac{1}{2}.$$

$\therefore \triangle DEF$ 与 $\triangle ABC$ 的三边对应成比例.

$$\therefore \triangle DEF \sim \triangle ABC.$$

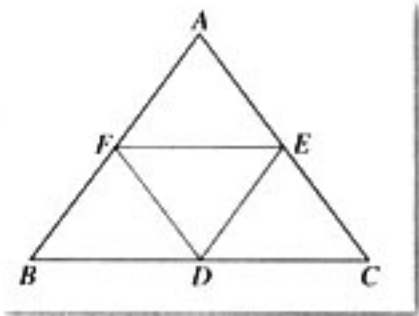


图 1-26

思考

以上我们得到了三个判定三角形相似的定理, 如果要判断两个直角三角形相似, 条件可以怎样简化?

我们知道, 与一般三角形相比, 直角三角形有一个角为直角, 三边长满足勾股定理等特殊的边角关系, 这种关系可以使判定两个直角三角形相似的条件得到简化. 例如, 我们有

定理 (1) 如果两个直角三角形有一个锐角对应相等, 那么它们相似;

(2) 如果两个直角三角形的两条直角边对应成比例, 那么它们相似.

此外, 与直角三角形全等的判定定理类比, 可引出直角三角形相似的另一个判定定理.

定理 如果一个直角三角形的斜边和一条直角边与另一个三角形的斜边和一条直角边对应成比例, 那么这两个直角三角形相似.

已知: 如图 1-27, $\text{Rt}\triangle ABC$ 与 $\text{Rt}\triangle A'B'C'$

中, $\angle C = \angle C' = 90^\circ$, $\frac{AB}{A'B'} = \frac{AC}{A'C'}$.

求证: $\text{Rt}\triangle ABC \sim \text{Rt}\triangle A'B'C'$.

证明: 由已知, 可设

$$\frac{AB}{A'B'} = \frac{AC}{A'C'} = k,$$

那么

$$AB = kA'B', \quad AC = kA'C',$$

$$\begin{aligned} \therefore BC^2 &= AB^2 - AC^2 \\ &= k^2(A'B'^2 - A'C'^2) \\ &= k^2B'C'^2, \end{aligned}$$

$$\therefore BC = kB'C',$$

$$\therefore \frac{AB}{A'B'} = \frac{AC}{A'C'} = \frac{BC}{B'C'} = k.$$

由判定定理 3 得 $\text{Rt}\triangle ABC \sim \text{Rt}\triangle A'B'C'$.

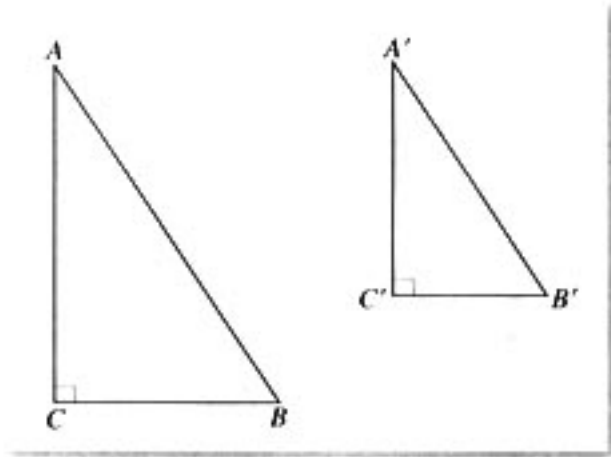


图 1-27

例 5 如图 1-28, 已知 AD 、 BE 分别是 $\triangle ABC$ 中 BC 边和 AC 边上的高, H 是 AD 、 BE 的交点.

求证: (1) $AD \cdot BC = BE \cdot AC$; (2) $AH \cdot HD = BH \cdot HE$.

证明: (1) 在 $\text{Rt}\triangle ADC$ 和 $\text{Rt}\triangle BEC$ 中,

$$\because \angle ACD = \angle BCE,$$

$$\therefore \text{Rt}\triangle ADC \sim \text{Rt}\triangle BEC,$$

$$\therefore \frac{AD}{BE} = \frac{AC}{BC}, \quad \text{即 } AD \cdot BC = BE \cdot AC.$$

(2) 在 $\text{Rt}\triangle AHE$ 和 $\text{Rt}\triangle BHD$ 中,

$$\because \angle AHE = \angle BHD,$$

$$\therefore \triangle AHE \sim \triangle BHD.$$

$$\therefore \frac{AH}{BH} = \frac{HE}{HD}, \quad \text{即 } AH \cdot HD = BH \cdot HE.$$

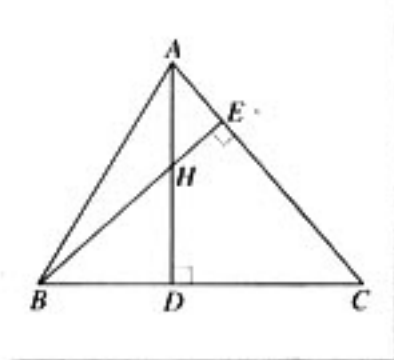


图 1-28

2. 相似三角形的性质

我们知道, 相似三角形的判定, 讨论的是具备哪些条件, 才能有两个三角形相似. 相似三角形的性质讨论的则是在两个三角形相似的条件下, 可以得出哪些结论. 一般地, 我们可以在两个三角形相似的条件下, 考察与三角形相关的元素, 如两个三角形的高、周长、角平分线、中线、面积等所具有的关系.



信息技术应用

利用计算机任意作两个相似三角形，测出相似比，分别测量它们的高、周长、面积……分别计算两个高之比、周长之比、面积之比……并观察它们与相似比的关系，按照相同比例放缩这两个三角形，相似比的关系有怎样的变化？

可以发现下列相似三角形的性质定理：

- (1) 相似三角形对应高的比、对应中线的比和对应角平分线的比都等于相似比；
- (2) 相似三角形周长的比等于相似比；
- (3) 相似三角形面积的比等于相似比的平方。

下面给出证明。

证明：(1) 如图 1-29， $\triangle ABC \sim \triangle A'B'C'$ ，设相似比为 k ， AD 、 $A'D'$ 分别是 $\triangle ABC$ 和 $\triangle A'B'C'$ 对应边上的高。

$$\begin{aligned} &\because \triangle ABC \sim \triangle A'B'C', \\ &\therefore \angle B = \angle B', \\ &\text{又} \because \angle ADB = \angle A'D'B' = 90^\circ, \\ &\therefore \triangle ABD \sim \triangle A'B'D', \\ &\therefore \frac{AD}{A'D'} = \frac{AB}{A'B'} = k. \end{aligned}$$

其余两个结论请同学们自己给出证明。

$$\begin{aligned} (2) &\because \triangle ABC \sim \triangle A'B'C', \\ &\therefore \frac{AB}{A'B'} = \frac{BC}{B'C'} = \frac{CA}{C'A'} = k, \\ &\therefore AB = kA'B', \quad BC = kB'C', \quad CA = kC'A', \\ &\therefore \frac{AB+BC+CA}{A'B'+B'C'+C'A'} = \frac{k(A'B'+B'C'+C'A')}{A'B'+B'C'+C'A'} = k. \end{aligned}$$

$$(3) \frac{S_{\triangle ABC}}{S_{\triangle A'B'C'}} = \frac{\frac{1}{2}BC \cdot AD}{\frac{1}{2}B'C' \cdot A'D'} = \frac{BC}{B'C'} \cdot \frac{AD}{A'D'} = k \cdot k = k^2.$$

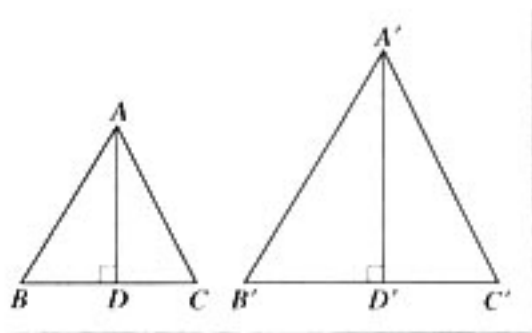


图 1-29

例 6 如图 1-30，锐角三角形 ABC 是一块钢板的余料，边 $BC=24$ cm， BC 边上的高 $AD=12$ cm，要把它加工成正方形零件，使正方形的一边在 BC 上，其余两个顶点分别在 AB 、 AC 上，求这个正方形零件的边长。

解：设正方形 $PQMN$ 为加工成的正方形零件，边 QM 在 BC 上，顶点 P 、 N 分别在

AB、AC 上, $\triangle ABC$ 的高与边 PN 相交于点 E. 设正方形的边长为 x cm.

$$\because PN \parallel BC,$$

$$\therefore \triangle APN \sim \triangle ABC.$$

$$\therefore \frac{AE}{AD} = \frac{PN}{BC}.$$

$$\therefore \frac{12-x}{12} = \frac{x}{24}.$$

解得 $x=8$ (cm).

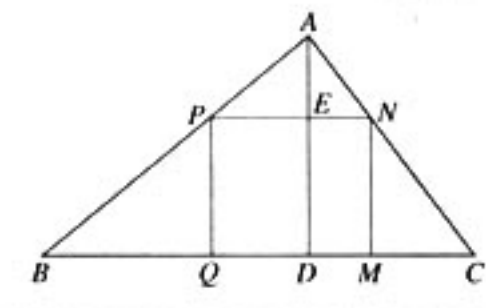


图 1-30

思考

由相似三角形的性质定理可知, 相似三角形的高、中线、内角平分线、周长、面积等要素都与相似比有关. 拓宽思路, 考虑与三角形有关但不在三角形内的其他元素, 这些元素是否与三角形的相似比有联系呢? 你想到了哪些元素?

问题 1 两个相似三角形的外接圆的直径比、周长比、面积比与相似比有什么关系?

探究: 如图 1-31 (1)(2), $\triangle ABC \sim \triangle A'B'C'$, AD 、 $A'D'$ 分别是 $\triangle ABC$ 和 $\triangle A'B'C'$ 外接圆的直径. 连接 BD 、 $B'D'$, 则 $\angle ABD = \angle A'B'D' = 90^\circ$.

$$\because \triangle ABC \sim \triangle A'B'C',$$

$$\therefore \angle C = \angle C', \text{ 而 } \angle D = \angle C, \angle D' = \angle C',$$

$$\therefore \angle D = \angle D'.$$

$$\therefore \text{Rt}\triangle ABD \sim \text{Rt}\triangle A'B'D'.$$

$$\therefore \frac{AD}{A'D'} = \frac{AB}{A'B'} = k.$$

$$\therefore \odot O \text{ 的周长} = 2\pi \cdot \frac{AD}{2} = \pi \cdot AD,$$

$$\odot O' \text{ 的周长} = 2\pi \cdot \frac{A'D'}{2} = \pi \cdot A'D',$$

$$\therefore \odot O \text{ 的周长} : \odot O' \text{ 的周长} = \frac{AD}{A'D'} = k.$$

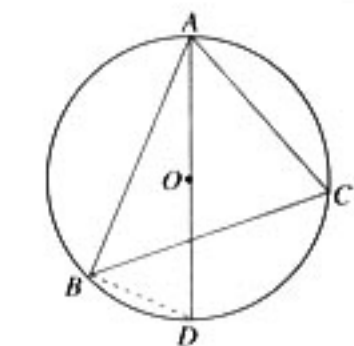
$$\text{又} \because \odot O \text{ 的面积} = \pi \left(\frac{AD}{2}\right)^2,$$

$$\odot O' \text{ 的面积} = \pi \left(\frac{A'D'}{2}\right)^2,$$

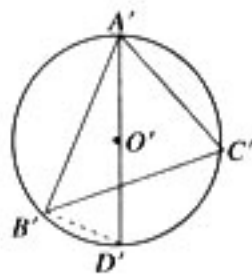
$$\therefore \odot O \text{ 的面积} : \odot O' \text{ 的面积} = \frac{AD^2}{A'D'^2} = k^2.$$

于是可得结论:

相似三角形外接圆的直径比、周长比等于相似比, 外接圆的面积比等于相似比的平方.



(1)



(2)

图 1-31

问题2 两个相似三角形的内切圆的直径比、周长比、面积比与相似比有什么关系？请同学们自己探究。



1. 如果一个圆过 $\triangle ABC$ 的顶点 B 和 C ，并且分别交 AB 、 AC 于点 D 和点 E 。

求证： $\frac{AD}{AC} = \frac{AE}{AB}$ 。

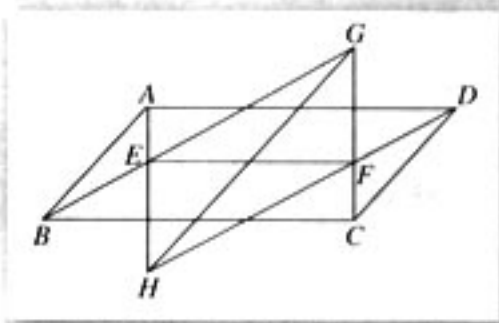
2. 已知 E 是圆内接四边形 $ABCD$ 的对角线 BD 上的一点，并且 $\angle BAE = \angle CAD$ 。

求证：(1) $AB \cdot CD = AC \cdot BE$ ；(2) $AD \cdot BC = AC \cdot ED$ 。

3. 已知：在 $\triangle ABC$ 和 $\triangle A'B'C'$ 中， $\angle A = \angle A'$ ， $AB = a$ ， $AC = b$ ， $A'B' = a'$ 。当 $A'C'$ 为多少时（用 a 、 b 、 a' 表示）， $\triangle ABC \sim \triangle A'B'C'$ ？

4. 已知 $\triangle ABC$ ，求作 $\triangle A'B'C'$ ，使它与 $\triangle ABC$ 相似，并使 $\triangle ABC$ 与 $\triangle A'B'C'$ 的相似比为 $2:3$ 。

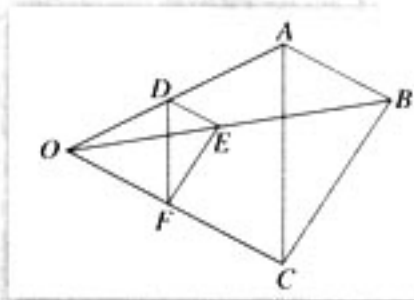
5. 如图，线段 EF 平行于平行四边形 $ABCD$ 的一边 AD ， BE 与 CF 交于一点 G ， AE 与 DF 交于一点 H 。求证： $GH \parallel AB$ 。



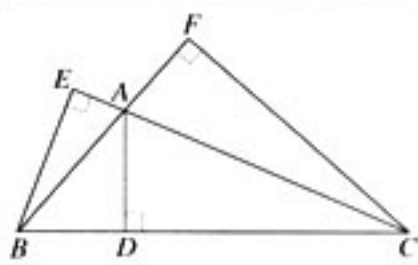
(第5题)

6. 如图，已知： $DE \parallel AB$ ， $EF \parallel BC$ 。求证： $\triangle DEF \sim \triangle ABC$ 。

7. 如图， $\triangle ABC$ 是钝角三角形， AD 、 BE 、 CF 分别是 $\triangle ABC$ 的三条高。求证： $AD \cdot BC = BE \cdot AC$ 。

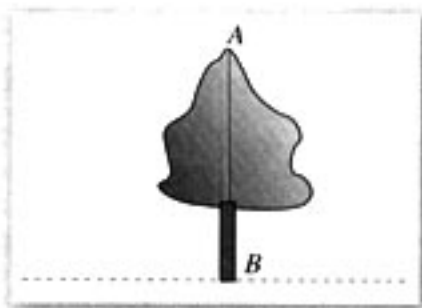


(第6题)



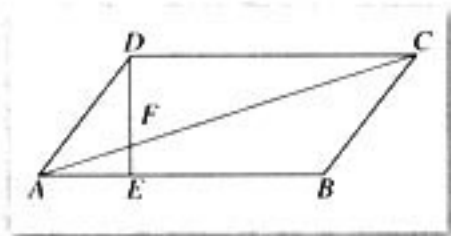
(第7题)

8. 如图，要测量树 AB 的高，可以利用相似三角形的知识，请你设计几种测量方案，并说明每种方案的理由。



(第8题)

9. 证明: 相似三角形对应中线的比、对应角平分线的比都等于相似比.
10. 如图, 平行四边形 $ABCD$ 中, $AE:EB=1:2$, 求 $\triangle AEF$ 与 $\triangle CDF$ 的周长比. 如果 $\triangle AEF$ 的面积等于 6 cm^2 , 求 $\triangle CDF$ 的面积.



(第 10 题)

11. 探究本节中的问题 2. 由问题 1、问题 2 的启示, 你还能提出其他问题吗?

四 直角三角形的射影定理

在太阳光的照射下, 物体总会在地面上留下阴影, 这就是射影的概念. 下面讨论垂直于某直线的光线, 把一个点或一条线段投射到该直线上的射影.

从一点向一直线所引垂线的垂足, 叫做这个点在这条直线上的正射影. 在图 1-32 中, $AA' \perp MN$, 垂足 A' 是点 A 在直线 MN 上的正射影. 如果点 A 是 MN 上的点, 那么 A 在 MN 上的正射影就是它本身.

一条线段在直线上的正射影, 是指线段的两个端点在这条直线上的正射影间的线段. 图 1-33 中, 线段 AB 的两个端点 A 和 B 在直线 MN 上的正射影分别是 A' 和 B' , 线段 $A'B'$ 是线段 AB 在直线 MN 上的正射影.

点和线段的正射影简称为射影.

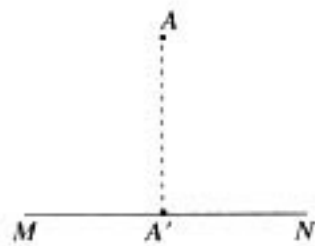


图 1-32

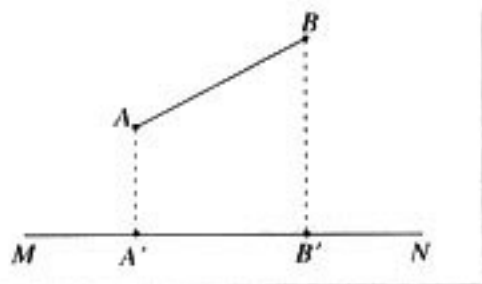


图 1-33

探究

如图 1-34, $\triangle ABC$ 是直角三角形, CD 为斜边 AB 上的高. 在这个图形中, 由于线段 AD 与 CD 、 BD 与 CD 、 BC 与 AC 等相互垂直, 因此可以从射影的角度来考察它们的关系. 你能发现这些线段之间的某些关系吗?

实际上,有些关系是非常明显的.例如,由 $\triangle BDC$ 为直角三角形可知 $BD < BC$; 因为 $S_{\triangle ABC} = \frac{1}{2}AC \cdot BC = \frac{1}{2}CD \cdot AB$, 所以有 $AC \cdot BC = CD \cdot AB$; 等等.

考察 $\text{Rt}\triangle ACD$ 和 $\text{Rt}\triangle CBD$,

$\because \angle ACD = 90^\circ - \angle BCD, \angle B = 90^\circ - \angle BCD,$

$\therefore \angle B = \angle ACD,$

$\therefore \triangle ACD \sim \triangle CBD,$

$\therefore \frac{AD}{CD} = \frac{CD}{BD},$

即 $CD^2 = AD \cdot BD,$ (1)

考察 $\text{Rt}\triangle BDC$ 和 $\text{Rt}\triangle BCA$,

$\because \angle B$ 是公共角,

$\therefore \triangle BDC \sim \triangle BCA,$

$\therefore \frac{BD}{BC} = \frac{BC}{AB},$

即 $BC^2 = BD \cdot AB,$ (2)

同理,由 $\triangle CDA \sim \triangle BCA$, 有

$AC^2 = AD \cdot AB,$ (3)

(1) (2) (3) 式反映了直角三角形两直角边在斜边上的射影与其他线段之间的关系,因而把这三个等式统称为直角三角形的射影定理.

射影定理 直角三角形斜边上的高是两直角边在斜边上射影的比例中项; 两直角边分别是它们在斜边上射影与斜边的比例中项.



用勾股定理能证明射影定理吗?

例 1 如图 1-35, 圆 O 上一点 C 在直径 AB 上的射影为 D , $AD=2$, $DB=8$, 求 CD 、 AC 和 BC 的长.

解: $\because \angle ACB$ 是半圆上的圆周角,

$\therefore \angle ACB = 90^\circ$, 即 $\triangle ABC$ 是直角三角形.

由射影定理可得

$CD^2 = AD \cdot BD = 2 \times 8 = 16$, 解得 $CD = 4$;

$AC^2 = AD \cdot AB = 2 \times 10 = 20$, 解得 $AC = 2\sqrt{5}$;

$BC^2 = BD \cdot AB = 8 \times 10 = 80$, 解得 $BC = 4\sqrt{5}$.

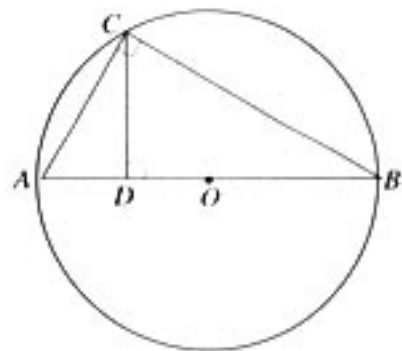


图 1-35

例 2 如图 1-36, $\triangle ABC$ 中, 顶点 C 在 AB 边上的射影为 D , 且 $CD^2 = AD \cdot DB$. 求证: $\triangle ABC$ 是直角三角形.

证明: 在 $\triangle CDA$ 和 $\triangle BDC$ 中,

- \because 点 C 在 AB 上的射影为 D ,
 $\therefore CD \perp AB$,
 $\therefore \angle CDA = \angle BDC = 90^\circ$.
 又 $\because CD^2 = AD \cdot DB$,
 $\therefore AD : CD = CD : DB$,
 $\therefore \triangle CDA \sim \triangle BDC$,
 $\therefore \angle CAD = \angle BCD$.

在 $\triangle ACD$ 中,

- $\because \angle CAD + \angle ACD = 90^\circ$,
 $\therefore \angle BCD + \angle ACD = 90^\circ$,
 $\therefore \angle BCD + \angle ACD = \angle ACB = 90^\circ$,
 $\therefore \triangle ABC$ 是直角三角形.

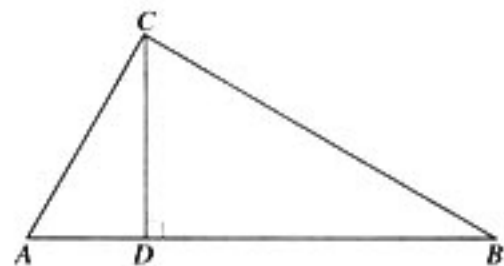
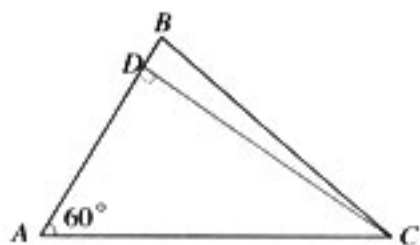


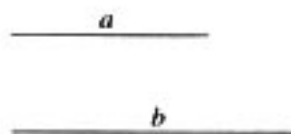
图 1-36



1. 在 $\triangle ABC$ 中, $\angle C = 90^\circ$, CD 是斜边 AB 上的高. 已知 $CD = 60$, $AD = 25$, 求 BD 、 AB 、 AC 、 BC 的长.
 2. 如图, $\triangle ABC$ 中, $\angle BAC = 60^\circ$, $CD \perp AB$, 求证: $BD = AB - \frac{1}{2}AC$.
 3. 如图, 已知线段 a 、 b , 求作线段 a 和 b 的比例中项.



(第 2 题)



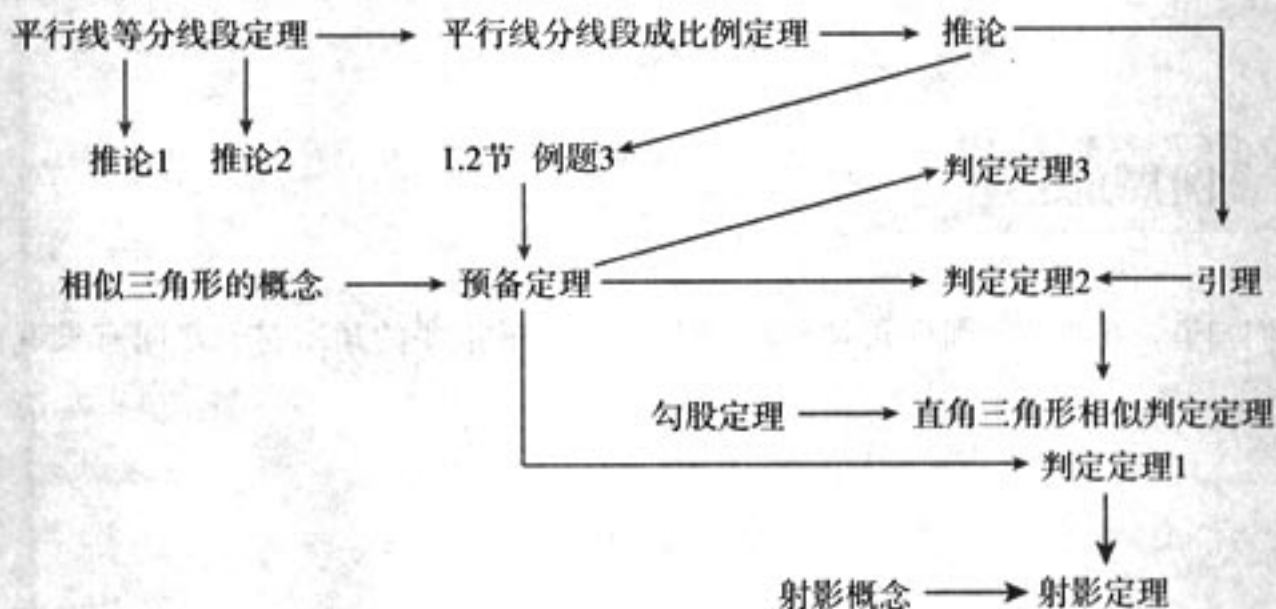
(第 3 题)

第一讲 小结

1. 知识结构

本讲主要证明了相似三角形的判定定理. 为了证明这些定理, 我们先引入了预备定理, 这是证明三个判定定理的基础. 但是, 预备定理本身并不是问题研究的起点, 它的证明需要平行线分线段成比例定理和相似三角形的定义, 而要证明平行线分线段成比例定理, 又要追溯到平行线等分线段定理. 这样就构成了本讲内容的逻辑体系. 另一方面, 作为相似三角形判定定理的特例和应用, 推出了直角三角形相似的判定定理和直角三角形的射影定理, 从而使逻辑体系进一步地发展、充实和完善.

本讲的知识结构图如下:



2. 数学思想方法

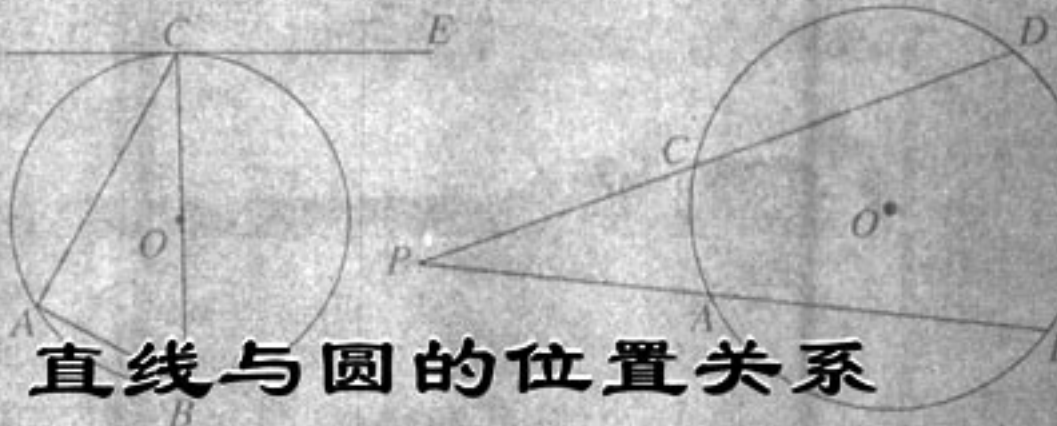
从特殊到一般的思考方法.

特殊性蕴含于一般性之中, 一般性的规律往往可以通过特殊性表现出来. 对特殊问题的考察, 会使我们获得直观和简化的信息, 并可能从中发现一般规律, 发现解决问题的方法. 当然, 特殊性不能代替一般性, 因为特殊性往往会缩小所研究问题的范围. 因此在研究数学问题时, 可以通过考察特殊性问题获得一般规律的猜想, 并从中得到证明一般规律的思想方法的启发; 然后由特殊过渡到一般, 对一般性结论作出严格证明.

化归思想方法.

在研究问题时, 常常通过一定的逻辑推理, 将困难的、不熟悉的问题转化为容易的、熟悉的问题, 这是解决数学问题不可缺少的思想方法. 同学们已经熟悉的恒等变形、换元法、数形结合、参数法等, 都是具体的化归方法. 本讲中, 相似三角形判定定理的证明采用了化归为预备定理的方法.

第二讲



直线与圆的位置关系

我们已经掌握了圆的一些知识，知道了圆的结构特点，学习了与圆相关的一些概念，并且也研究过圆的弦、圆心角、圆周角、切线等性质。本讲将在此基础上，进一步学习圆的知识，特别是要证明一些反映圆与直线关系的重要定理。

一 圆周角定理

我们知道，圆心角和圆周角是与圆相关的两个最重要的角，它们之间有没有内在联系呢？

探究

在 $\odot O$ 中作一个顶点为A的圆周角 $\angle BAC$ ，连接OB、OC，得圆心角 $\angle BOC$ 。度量 $\angle BAC$ 和 $\angle BOC$ 的度数，它们之间有什么关系？改变圆周角的大小，这种关系会改变吗？

可以利用计算机完成这个探究。

可以发现，无论圆周角的大小怎样改变，都有 $\angle BAC = \frac{1}{2} \angle BOC$ 。

一般地，我们有

圆周角定理 圆上一条弧所对的圆周角等于它所对的圆心角的一半。

已知：如图2-1，在 $\odot O$ 中， \widehat{BC} 所对的圆周角和圆心角分别是 $\angle BAC$ 、 $\angle BOC$ 。

求证： $\angle BAC = \frac{1}{2} \angle BOC$ 。

分析：从图2-1一时难以发现证明的思路。在圆中，圆心和直径是两个最重要的几何元素。利用直径，先考察一个特殊位置，即圆周角的一边是直径，如图2-2(1)，圆周角 $\angle BAC$ 是等腰三角形AOC的底角，圆心角 $\angle BOC$ 是等腰三角形AOC的外角。利用“三

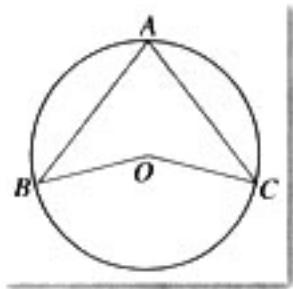


图2-1

角形的外角等于不相邻两内角的和”以及等腰三角形的性质，可以得到结论成立。

以直径为分界线，可以得到另外两类圆周角及相应的圆心角，如图 2-2(2)(3)所示。只要能将它们化归为 (1) 的情形，问题就能解决。

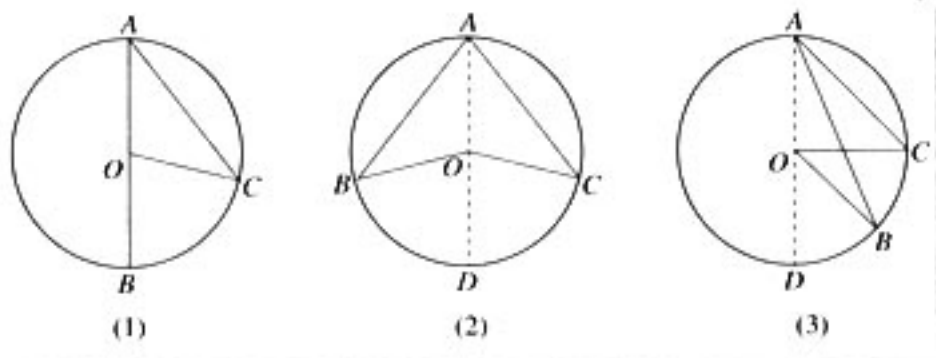


图 2-2

证明：分三种情况讨论。

(1) 如图 2-2(1)，圆心 O 在 $\angle BAC$ 的一条边上。

$$\because OA=OC,$$

$$\therefore \angle C=\angle BAC,$$

$$\because \angle BOC=\angle BAC+\angle C,$$

$$\therefore \angle BAC=\frac{1}{2}\angle BOC.$$

(2) 如图 2-2(2)，圆心 O 在 $\angle BAC$ 的内部，作直径 AD ，利用 (1) 的结果，有

$$\angle BAD=\frac{1}{2}\angle BOD, \quad \angle DAC=\frac{1}{2}\angle DOC,$$

$$\therefore \angle BAD+\angle DAC=\frac{1}{2}(\angle BOD+\angle DOC), \quad \text{即}$$

$$\angle BAC=\frac{1}{2}\angle BOC.$$

(3) 如图 2-2(3)，圆心 O 在 $\angle BAC$ 的外部，作直径 AD ，利用 (1) 的结果可得

$$\angle DAB=\frac{1}{2}\angle DOB, \quad \angle DAC=\frac{1}{2}\angle DOC.$$

$$\therefore \angle DAC-\angle DAB=\frac{1}{2}(\angle DOC-\angle DOB), \quad \text{即} \quad \angle BAC=\frac{1}{2}\angle BOC.$$

上面的证明考虑了圆周角的三类情形。因为圆周角与圆的任意位置关系都包含在这三类情形中，分三类情形讨论就覆盖了所有可能的位置关系，使证明具有一般性。这种依据问题的特点进行分类讨论的方法，是数学中常用的方法。

我们知道，一个周角是 360° 。把圆周等分成 360 份，每一份叫做 1° 的弧。由此， n° 的圆心角所对的弧是 n° 的弧；反之， n° 的弧所对的圆心角的度数是 n° 。从而有：

圆心角定理 圆心角的度数等于它所对弧的度数。

在同圆或等圆中，相等的弧所对的圆心角相等，因此，由圆周角定理可以直接得到：

推论 1 同弧或等弧所对的圆周角相等；同圆或等圆中，相等的圆周角所对的弧也相等.

推论 2 半圆（或直径）所对的圆周角是直角； 90° 的圆周角所对的弦是直径.

例 1 如图 2-3, AD 是 $\triangle ABC$ 的高, AE 是 $\triangle ABC$ 的外接圆直径. 求证: $AB \cdot AC = AE \cdot AD$.

证明: 连接 BE .

$$\because \angle ADC = \angle ABE = 90^\circ, \angle C = \angle E,$$

$$\therefore \triangle ADC \sim \triangle ABE.$$

$$\therefore \frac{AC}{AE} = \frac{AD}{AB}.$$

$$\therefore AB \cdot AC = AE \cdot AD.$$

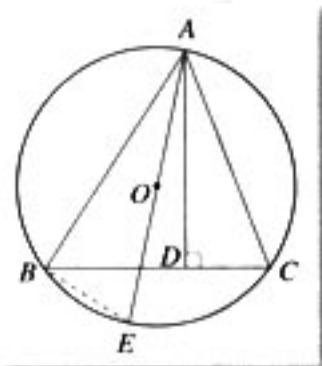


图 2-3

例 2 如图 2-4, AB 与 CD 相交于圆内一点 P . 求证: \widehat{AD} 的度数与 \widehat{BC} 的度数和的一半等于 $\angle APD$ 的度数.

分析: 由于 $\angle APD$ 既不是圆心角, 也不是圆周角, 为此我们需要构造一个与它相等的圆心角或圆周角, 以便利用定理.

证明: 如图 2-4, 过点 C 作 $CE \parallel AB$ 交圆于 E , 则有 $\angle APD = \angle C$.

$$\because \widehat{AE} = \widehat{BC}, \text{ (为什么?)}$$

$$\therefore \widehat{DAE} = \widehat{DA} + \widehat{AE} = \widehat{AD} + \widehat{BC}.$$

又 $\because \angle C$ 的度数等于 \widehat{DAE} 的度数的一半,

$$\therefore \angle APD \text{ 的度数等于 } \widehat{AD} \text{ 的度数与 } \widehat{BC} \text{ 的度数和的一半.}$$

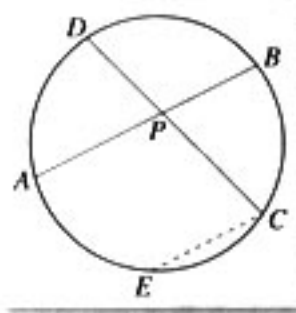


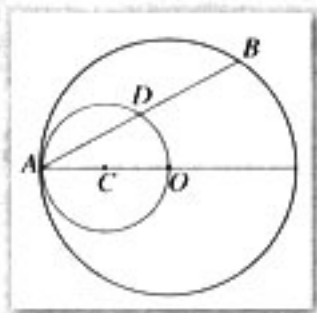
图 2-4



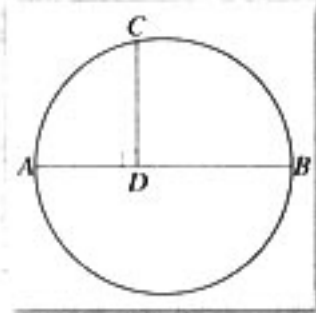
1. 如图, OA 是 $\odot O$ 的半径, 以 OA 为直径的 $\odot C$ 与 $\odot O$ 的弦 AB 相交于点 D , 求证: D 是 AB 的中点.

2. 如图, 圆的直径 $AB = 13$ cm, C 为圆上一点, $CD \perp AB$, 垂足为 D , 且 $CD = 6$ cm, 求 AD 的长.

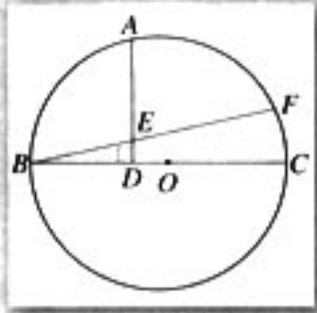
3. 如图, BC 为 $\odot O$ 的直径, $AD \perp BC$, 垂足为 D , $\widehat{AB} = \widehat{AF}$, BF 和 AD 相交于 E , 求证: $AE = BE$.



(第 1 题)



(第 2 题)



(第 3 题)

二 圆内接四边形的性质与判定定理

在讨论了圆内的角以后，我们再来讨论与圆相关的多边形。

如果多边形的所有顶点都在一个圆上，那么这个多边形叫做圆内接多边形，这个圆叫做多边形的外接圆。

思考

我们知道，任意三角形都有外接圆，那么，任意正方形有外接圆吗？为什么？任意矩形是否有外接圆？一般地，任意四边形都有外接圆吗？

我们从问题的反面入手：如果一个四边形内接于圆，那么这样的四边形有什么特征？

探究

观察图 2-5，这组图中的四边形都内接于圆，你能从中发现这些四边形的共同特征吗？

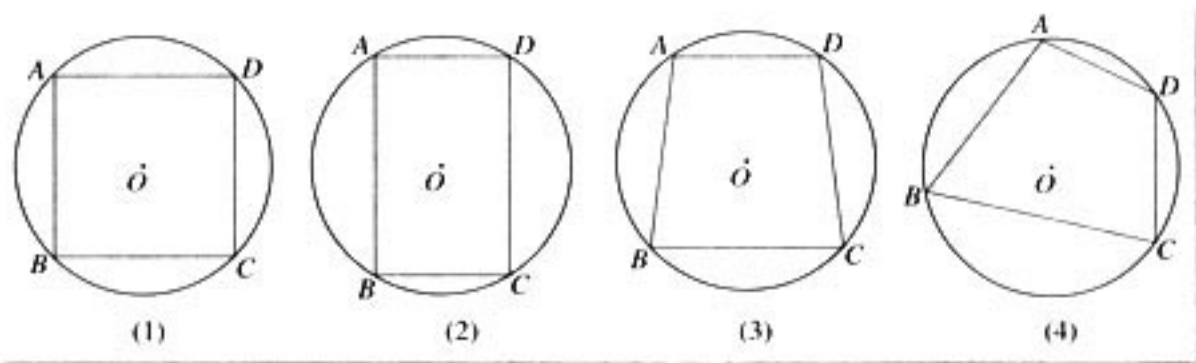


图 2-5

一般地，我们可以从四边形的边的关系、角的关系等来考察这些图形的共同特征，下面考察四个角的关系。

显然，圆内接四边形的角都是圆周角，因此，为了考察这些圆周角的关系，我们可以借助圆周角定理。

如图 2-6(1)，连接 OA 、 OC ，则 $\angle B = \frac{1}{2}\alpha$ ， $\angle D = \frac{1}{2}\beta$ 。

可以借助计算机来探究圆内接四边形的特征。

$$\because \alpha + \beta = 360^\circ,$$

$$\therefore \angle B + \angle D = \frac{1}{2} \times 360^\circ = 180^\circ.$$

同理可得: $\angle A + \angle C = 180^\circ$.

由此得圆内接四边形的性质定理 1:

定理 1 圆的内接四边形的对角互补.

将图 2-6(1) 中线段 AB 延长到点 E , 得到图 2-6(2).

由于 $\angle ABC + \angle EBC = 180^\circ$, 而 $\angle ABC + \angle D = 180^\circ$,

$$\therefore \angle EBC = \angle D.$$

于是又得性质定理 2:

定理 2 圆内接四边形的外角等于它的内角的对角.

经过上面的讨论, 我们得到了圆内接四边形的两条性质. 一个自然的想法是, 它们的逆命题成立吗? 如果成立, 就可以得到四边形存在外接圆的判定定理.

假设: 四边形 $ABCD$ 中, $\angle B + \angle D = 180^\circ$,

求证: A, B, C, D 在同一圆周上 (简称四点共圆).

分析: 不在同一直线上的三点确定一个圆. 经过 A, B, C 三点作 $\odot O$, 如果能够由条件得到 $\odot O$ 过点 D , 那么就证明了命题.

显然, $\odot O$ 与点 D 有且只有三种位置关系:

- (1) 点 D 在圆外;
- (2) 点 D 在圆内;
- (3) 点 D 在圆上.

只要证明在假设条件下只有 (3) 成立, 也就证明了命题.

证明: (1) 如果点 D 在 $\odot O$ 的外部 (图 2-7). 设 E 是 AD 与圆周的交点, 连接 EC , 则有 $\angle AEC + \angle B = 180^\circ$. 由题设 $\angle B + \angle D = 180^\circ$, 可得 $\angle D = \angle AEC$. 这与“三角形的外角大于任一不相邻的内角”矛盾, 故点 D 不可能在圆外.

(2) 如果点 D 在 $\odot O$ 的内部 (图 2-8). 显然, AD 的延长线必与圆相交, 设交点为 E , 连接 CE , 则 $\angle B + \angle E = 180^\circ$.

$$\because \angle B + \angle ADC = 180^\circ,$$

$$\therefore \angle E = \angle ADC.$$

同样产生矛盾.

\therefore 点 D 不可能在圆内.

综上所述, 点 D 只能在圆周上, 即 A, B, C, D 四点共圆. 因此得

圆内接四边形判定定理 如果一个四边形的对角互补, 那么这个四边形的四个顶点

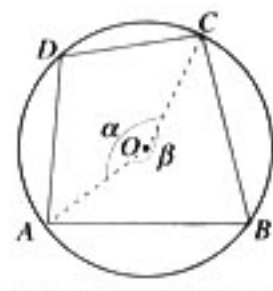


图 2-6(1)

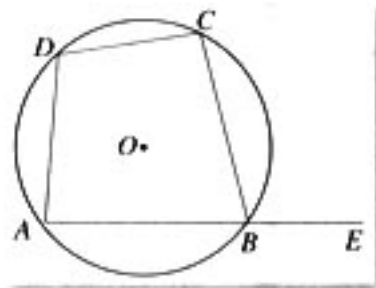


图 2-6(2)

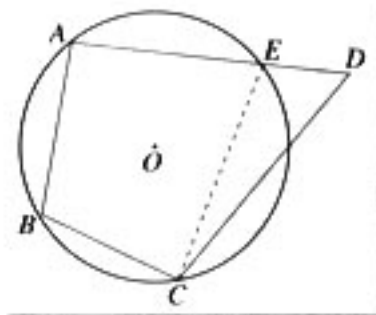


图 2-7

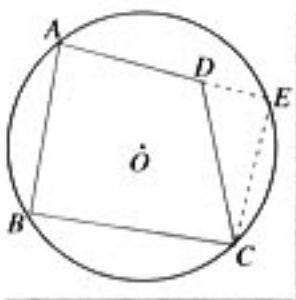


图 2-8

共圆.

在圆内接四边形判定定理的证明中, 我们用分类思想对点 D 与 A 、 B 、 C 三点确定的圆的位置关系进行讨论, 在每一种情形中都运用了反证法. 当问题的结论存在多种情形时, 通过对每一种情形分别论证, 最后获证结论的方法, 称为穷举法.

推论 如果四边形的一个外角等于它的内角的对角, 那么这个四边形的四个顶点共圆.

请同学们自己写出推论的证明.

例 1 如图 2-9, $\odot O_1$ 与 $\odot O_2$ 都经过 A 、 B 两点. 经过点 A 的直线 CD 与 $\odot O_1$ 交于点 C , 与 $\odot O_2$ 交于点 D . 经过点 B 的直线 EF 与 $\odot O_1$ 交于点 E , 与 $\odot O_2$ 交于点 F . 求证: $CE \parallel DF$.

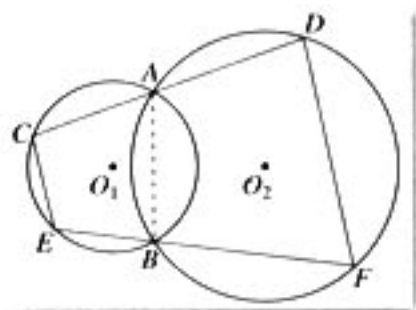


图 2-9

证明: 连接 AB .

\because 四边形 $ABEC$ 是 $\odot O_1$ 的内接四边形,

$\therefore \angle BAD = \angle E$.

又 \because 四边形 $ADFB$ 是 $\odot O_2$ 的内接四边形,

$\therefore \angle BAD + \angle F = 180^\circ$.

$\therefore \angle E + \angle F = 180^\circ$.

$\therefore CE \parallel DF$.

例 2 如图 2-10, CF 是 $\triangle ABC$ 的 AB 边上的高, $FP \perp BC$, $FQ \perp AC$. 求证: A 、 B 、 P 、 Q 四点共圆.

证明: 连接 PQ . 在四边形 $QFPC$ 中, $\because FP \perp BC$, $FQ \perp AC$, $\therefore \angle FQA = \angle FPC$.

$\therefore Q$ 、 F 、 P 、 C 四点共圆.

$\therefore \angle QFC = \angle QPC$.

又 $\because CF \perp AB$,

$\therefore \angle QFC$ 与 $\angle QFA$ 互余, 而 $\angle A$ 与 $\angle QFA$ 也互余,

$\therefore \angle A = \angle QFC$.

$\therefore \angle A = \angle QPC$.

$\therefore A$ 、 B 、 P 、 Q 四点共圆.

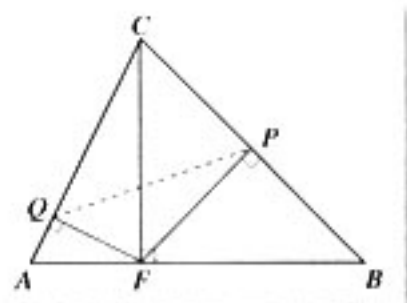
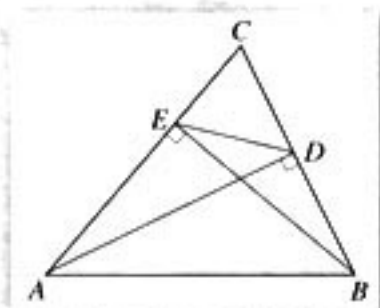


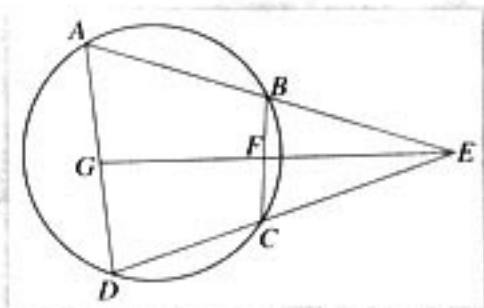
图 2-10



- 如图, AD 、 BE 是 $\triangle ABC$ 的两条高, 求证: $\angle CED = \angle ABC$.
- 求证: 对角线互相垂直的四边形中, 各边中点在同一个圆周上.



(第1题)



(第3题)

- 如图, 已知四边形 $ABCD$ 内接于圆, 延长 AB 和 DC 相交于 E , EG 平分 $\angle E$, 且与 BC 、 AD 分别相交于 F 、 G . 求证: $\angle CFG = \angle DGF$.

三 圆的切线的性质及判定定理

我们知道, 直线与圆有相交、相切和相离三种位置关系, 这是从直线与圆的公共点个数刻画的. 直线与圆有两个公共点, 称直线与圆相交; 直线与圆只有一个公共点, 称直线与圆相切; 直线与圆没有公共点, 称直线与圆相离.

本节专门讨论直线与圆相切的情形. 我们先看当直线与圆相切时有什么性质.

如图 2-11, 直线 l 是 $\odot O$ 的切线, A 为切点. 观察、测量图形可以发现 $l \perp OA$. 那么 l 与半径 OA 是否一定垂直呢?

假如 l 与 OA 不垂直, 那么过点 O 可作 $OM \perp l$, 垂足为 M , 根据“垂线段最短”的性质, 可得 $OA > OM$. 这就是说圆心到直线 l 的距离小于圆的半径, 于是 l 就应与 $\odot O$ 相交, 这与 l 是 $\odot O$ 的切线相矛盾. 因此, l 与 OA 一定垂直.

于是有:

切线的性质定理 圆的切线垂直于经过切点的半径.

因为经过一点只有一条直线与已知直线垂直, 所以经过圆心垂直于切线的直线一定过切点; 反之, 过切点且垂直于切线的直线也一定经过圆心. 由此得到:

推论 1 经过圆心且垂直于切线的直线必经过切点.

推论 2 经过切点且垂直于切线的直线必经过圆心.

下面通过考察性质定理的逆命题来得到判定定理.

如图 2-11, 点 A 是 $\odot O$ 与直线 l 的公共点且 $l \perp OA$. 在直线 l 上任取异于点 A 的点 B ,

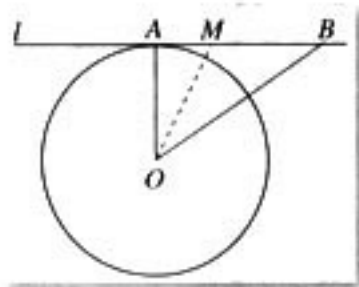


图 2-11

都有 $OB > OA$, 这是因为 $\triangle OBA$ 是直角三角形, 而 OB 是 $Rt\triangle OBA$ 的斜边. 因此, 点 B 在圆外. 由点 B 的任意性, 知圆与直线只有一个公共点, 因此 l 是圆的切线. 由此可得:

切线的判定定理 经过半径的外端并且垂直于这条半径的直线是圆的切线.

例 1 如图 2-12, AB 是 $\odot O$ 的直径, $\odot O$ 过 BC 的中点 D , $DE \perp AC$. 求证: DE 是 $\odot O$ 的切线.

证明: 连接 OD . $\because BD=CD, OA=OB$,

$\therefore OD$ 是 $\triangle ABC$ 的中位线,

$\therefore OD \parallel AC$.

又 $\because \angle DEC = 90^\circ$,

$\therefore \angle ODE = 90^\circ$.

又 $\because D$ 在圆周上,

$\therefore DE$ 是 $\odot O$ 的切线.

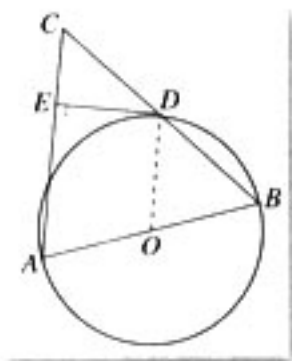


图 2-12

例 2 如图 2-13, AB 为 $\odot O$ 的直径, C 为 $\odot O$ 上一点, AD 和过 C 点的切线互相垂直, 垂足为 D . 求证: AC 平分 $\angle DAB$.

证明: 连接 OC . $\because CD$ 是 $\odot O$ 的切线,

$\therefore OC \perp CD$,

又 $\because AD \perp CD$,

$\therefore OC \parallel AD$. 由此得 $\angle ACO = \angle CAD$.

$\because OC = OA$,

$\therefore \angle CAO = \angle ACO$.

$\therefore \angle CAD = \angle CAO$. 故 AC 平分 $\angle DAB$.

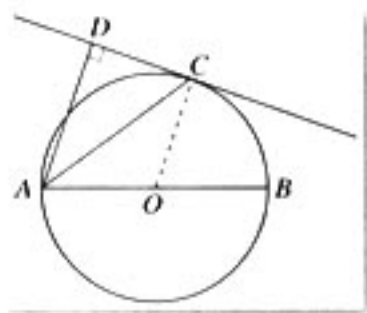


图 2-13

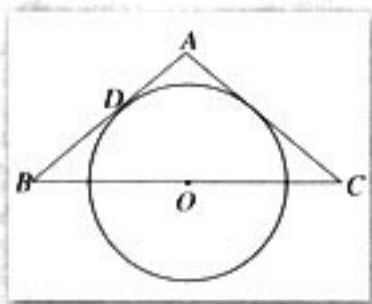
思考

圆的切线性质定理及它的两个推论, 涉及一条直线的三条性质: (1) 经过圆心; (2) 经过切点; (3) 垂直于切线. 你能把圆的切线性质及它的两个推论概括在同一个定理中吗?

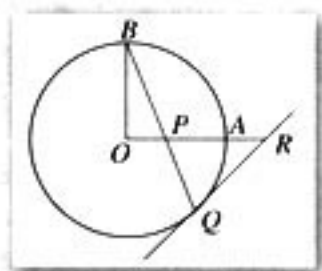


1. 如图, $\triangle ABC$ 为等腰三角形, O 是底边 BC 的中点, $\odot O$ 与腰 AB 相切于点 D . 求证: AC 与 $\odot O$ 相切.

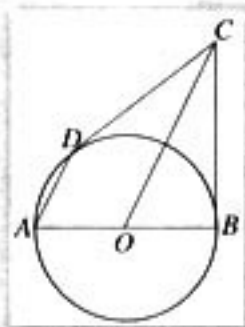
2. 如图, OA 和 OB 是 $\odot O$ 的半径, 并且 $OA \perp OB$, P 是 OA 上任意一点, BP 的延长线交 $\odot O$ 于 Q . 过 Q 作 $\odot O$ 的切线交 OA 的延长线于 R , 求证: $RP=RQ$.



(第1题)



(第2题)



(第3题)

3. 如图, AB 是 $\odot O$ 的直径, BC 是 $\odot O$ 的切线, 切点为 B , OC 平行于弦 AD . 求证: DC 是 $\odot O$ 的切线.

四 弦切角的性质

观察

在图 2-14 中, 以点 D 为中心旋转直线 DE , 同时保证直线 BC 与 DE 的交点落在圆周上. 当 DE 变为圆的切线时 (如图 2-15), 你能发现什么现象?

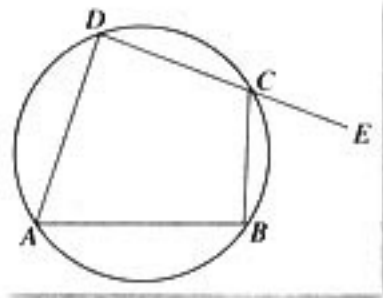


图 2-14

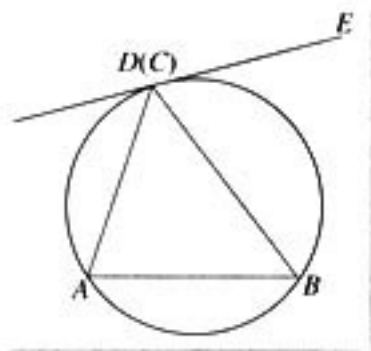


图 2-15

图 2-14 中, 根据圆内接四边形的性质, 有 $\angle BCE = \angle A$. 在图 2-15 中, DE 是切线, $\angle BCE = \angle A$ 仍然成立吗?

猜想 $\triangle ABC$ 是 $\odot O$ 的内接三角形, CE 是 $\odot O$ 的切线, 则 $\angle BCE = \angle A$.

分析: 延用从特殊到一般的思路, 先分析 $\triangle ABC$ 为直角三角形时的情形, 再将锐角三角形和钝角三角形的情形化归为直角三角形的情形.

证明: (1) 如图 2-16, 圆心 O 在 $\triangle ABC$ 的边 BC 上, 即 $\triangle ABC$ 是直角三角形.

$\because CE$ 为切线,

$\therefore \angle BCE = 90^\circ$,

又 $\because \angle A$ 是半圆上的圆周角,

$\therefore \angle A = 90^\circ$,

$\therefore \angle BCE = \angle A$.

(2) 如图 2-17, 圆心 O 在 $\triangle ABC$ 的内部, 即 $\triangle ABC$ 为锐角三角形. 作 $\odot O$ 的直径 CP , 连接 AP , 则 $\angle PCE = \angle CAP = 90^\circ$.

$\therefore \angle BCE = \angle PCE - \angle PCB = 90^\circ - \angle PCB$,

$\angle BAC = \angle CAP - \angle PAB = 90^\circ - \angle PAB$,

而 $\angle PAB = \angle PCB$,

$\therefore \angle BCE = \angle BAC$.

(3) 如图 2-18, 圆心 O 在 $\triangle ABC$ 的外部, 即 $\triangle ABC$ 为钝角三角形. 作 $\odot O$ 的直径 CP , 连接 AP , 则 $\angle PCE = \angle CAP = 90^\circ$.

$\therefore \angle BCE = \angle PCE + \angle PCB = 90^\circ + \angle PCB$,

$\angle BAC = \angle CAP + \angle PAB = 90^\circ + \angle PAB$,

而 $\angle PAB = \angle PCB$,

$\therefore \angle BCE = \angle BAC$.

综上所述, 猜想成立.

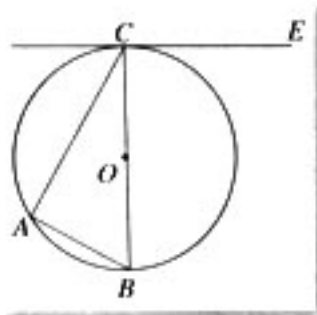


图 2-16

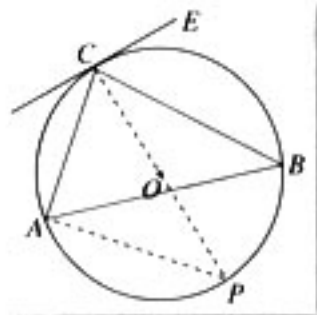


图 2-17

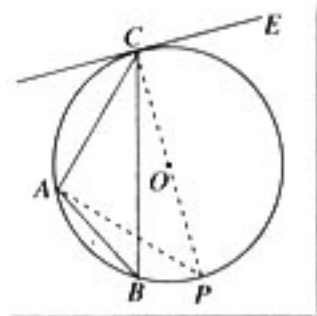


图 2-18

在图 2-15 中, 由于 $\angle BDE$ 是由一条弦和一条切线组成的角, 因此给它取名为弦切角. 即: 顶点在圆上, 一边和圆相交、另一边和圆相切的角叫做弦切角.

于是我们可以将上述经过证明后的猜想表述为:

弦切角定理 弦切角等于它所夹的弧所对的圆周角.

由上述定理的发现和证明过程可以看到, 对一个图形进行适当的变化, 往往能够发现几何中的一些有价值的结论. 另外, 猜想的证明渗透了分类思想、运动变化思想和化归思想, 你能从中体会这些思想方法吗?

例 1 如图 2-19, AB 是 $\odot O$ 的直径, AC 是弦, 直线 CE 和 $\odot O$ 切于点 C , $AD \perp CE$, 垂足为 D . 求证: AC 平分 $\angle BAD$.

证明: 连接 BC . $\because AB$ 是 $\odot O$ 的直径,

$\therefore \angle ACB = 90^\circ$.

$\therefore \angle B + \angle CAB = 90^\circ$.

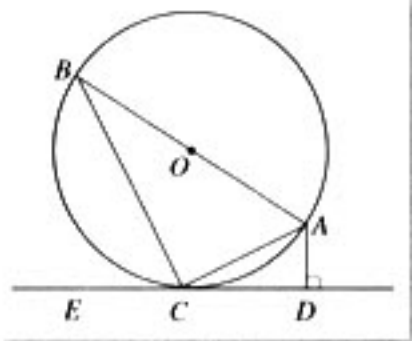
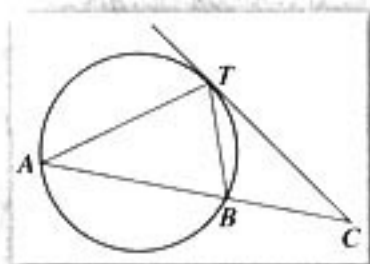


图 2-19

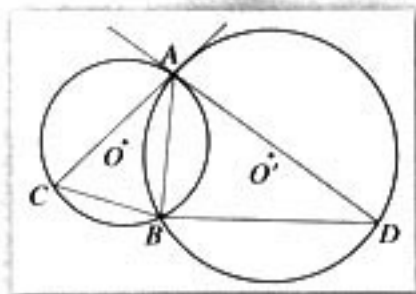
- $\because AD \perp CE,$
 $\therefore \angle ADC = 90^\circ,$
 $\therefore \angle ACD + \angle DAC = 90^\circ,$
 $\because AC$ 是弦, 且直线 CE 和 $\odot O$ 切于点 $C,$
 $\therefore \angle ACD = \angle B,$
 $\therefore \angle DAC = \angle CAB,$ 即 AC 平分 $\angle BAD.$



1. 如图, 经过圆上的点 T 的切线和弦 AB 的延长线相交于点 C , 求证: $\angle ATC = \angle TBC.$



(第1题)



(第2题)

2. 如图, $\odot O$ 和 $\odot O'$ 都经过 A, B 两点, AC 是 $\odot O'$ 的切线, 交 $\odot O$ 于点 C , AD 是 $\odot O$ 的切线, 交 $\odot O'$ 于点 D , 求证: $AB^2 = BC \cdot BD.$

五 与圆有关的比例线段

前面我们讨论了与圆有关的角之间的关系, 自然的, 我们可以讨论与圆有关的线段的关系及其度量问题, 下面沿用从特殊到一般的思路, 讨论与圆的相交弦有关的问题.

探究

如图 2-20, AB 是 $\odot O$ 的直径, $CD \perp AB$, AB 与 CD 相交于 P , 线段 PA 、 PB 、 PC 、 PD 之间有什么关系?

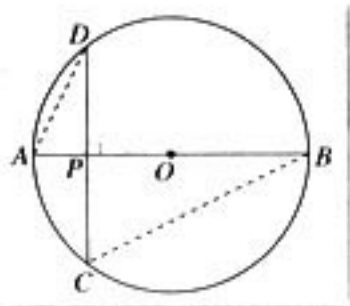


图 2-20

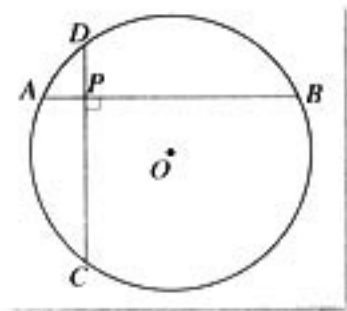


图 2-21

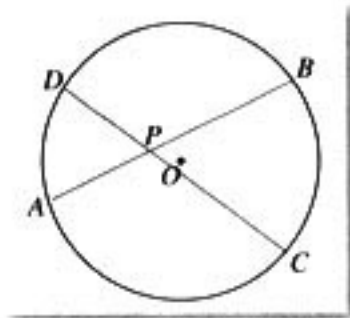


图 2-22

连接 AD 、 BC ，则由圆周角定理的推论可得：

$$\angle A = \angle C.$$

$$\therefore \text{Rt}\triangle APD \sim \text{Rt}\triangle CPB.$$

$$\therefore \frac{PA}{PD} = \frac{PC}{PB}.$$

$$\therefore PA \cdot PB = PC \cdot PD. \quad (1)$$

探究

将图 2-20 中的 AB 向上（或向下）平移，使 AB 不再是直径（图 2-21），结论 (1) 还成立吗？

连接 AD 、 BC ，请同学们自己给出证明。

探究

上面讨论了 $CD \perp AB$ 的情形，进一步地，如果 CD 与 AB 不垂直，如图 2-22， CD 、 AB 是圆内的任意两条相交弦，结论 (1) 是否仍然成立？

事实上， AB 、 CD 是圆内的任意两条相交弦时，结论 (1) 仍然成立，而且证明方法不变，请同学们自己给出证明。

由上述探究及论证，我们有

相交弦定理 圆内的两条相交弦，被交点分成的两条线段长的积相等。

以上通过考察相交弦交角变化中有关线段的关系，得出了相交弦定理。下面从新的角度考察与圆有关的比例线段。

探究

使圆的两条相交弦的交点 P 从圆内运动到圆上（图 2-23），再到圆外（图 2-24），结论 (1) 是否还能成立？

当点 P 在圆上时， $PA = PC = 0$ ，所以 $PA \cdot PB = PC \cdot PD$ 仍成立。

当点 P 在圆外时，在图 2-24 中，连接 AD 、 BC ，容易证明 $\triangle PAD \sim \triangle PCB$ ，所以

$$\frac{PA}{PC} = \frac{PD}{PB}, \text{ 即 } PA \cdot PB = PC \cdot PD.$$

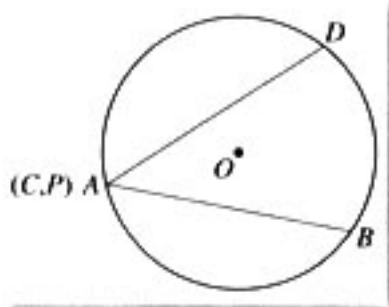


图 2-23

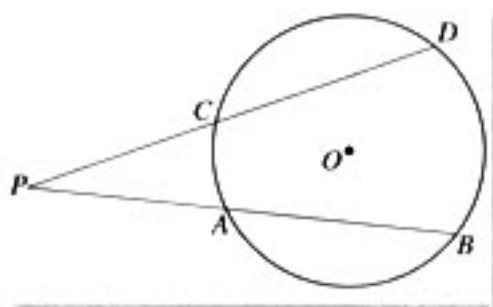


图 2-24

根据上述探究和论证, 我们有

割线定理 从圆外一点引圆的两条割线, 这一点到每条割线与圆的交点的两条线段长的积相等.

下面继续用运动变化思想探究.

探究

在图 2-24 中, 使割线 PB 绕 P 点运动到切线的位置 (图 2-25), 是否还有 $PA \cdot PB = PC \cdot PD$?

连接 AC 、 AD , 同样可以证明 $\triangle PAC \sim \triangle PDA$ (请同学们自己证明), 因而 (1) 式仍然成立. 在这种情况下, A 、 B 两点重合, $PA \cdot PB = PC \cdot PD$ 变形为:

$$PA^2 = PC \cdot PD. \quad (2)$$

由上述探究和论证, 我们有

切割线定理 从圆外一点引圆的切线和割线, 切线长是这点到割线与圆交点的两条线段长的比例中项.

设 P 为圆外一点, 过 P 的圆的切线的切点为 A , 称 PA 为点 P 到圆的切线长.

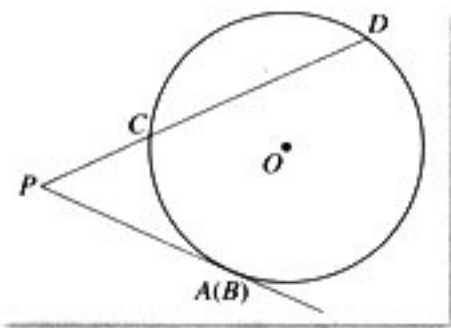


图 2-25

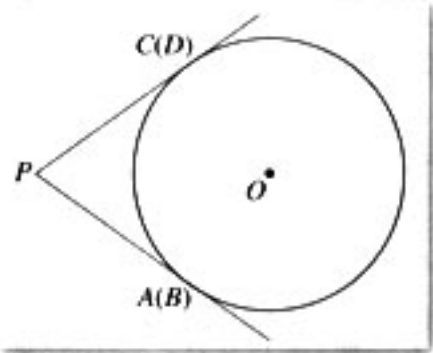


图 2-26

探究

在图 2-25 中, 使割线 PD 绕 P 点运动到切线位置 (图 2-26), 可以得出什么结论?

从图 2-25 变到图 2-26 时, 点 C 与点 D 重合, 因此 (1) 式变为 $PA^2 = PC^2$, 所以 $PA = PC$.

结合切线的性质定理, 我们有

切线长定理 从圆外一点引圆的两条切线, 它们的切线长相等, 圆心和这一点的连线平分两条切线的夹角.

证明: 如图 2-27, 连接 OA 、 OC , 则

$OA \perp PA$, $OC \perp PC$.

$\because OA = OC$, $OP = OP$,

$\therefore \text{Rt}\triangle OAP \cong \text{Rt}\triangle OCP$.

$\therefore PA = PC$, $\angle APO = \angle CPO$.

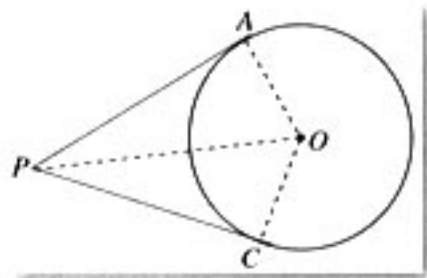


图 2-27

思考

由切割线定理能证明切线长定理吗? 在图 2-26 中, 由 P 向圆任作一条割线试一试. 另外, 你能将切线长定理推广到空间的情形吗?

例 1 如图 2-28, 圆内的两条弦 AB 、 CD 相交于圆内一点 P , 已知 $PA = PB = 4$, $PC = \frac{1}{4}PD$. 求 CD 的长.

解: 设 $CD = x$, 则 $PD = \frac{4}{5}x$, $PC = \frac{1}{5}x$.

由相交弦定理, 得

$$PA \cdot PB = PC \cdot PD,$$

$$\therefore 4 \times 4 = \frac{1}{5}x \cdot \frac{4}{5}x, \quad x = 10.$$

$$\therefore CD = 10.$$

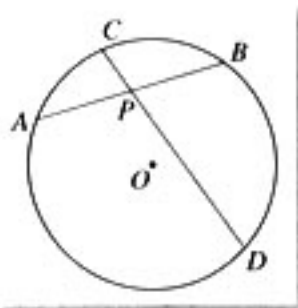


图 2-28

例 2 如图 2-29, E 是圆内两弦 AB 和 CD 的交点, 直线 $EF \parallel CB$, 交 AD 的延长线于 F , FG 切圆于 G .

求证: (1) $\triangle DFE \sim \triangle EFA$; (2) $EF = FG$.

证明: (1) $\because EF \parallel CB$,

$$\therefore \angle DEF = \angle DCB.$$

$\because \angle DCB$ 和 $\angle DAB$ 都是 \widehat{DB} 上的圆周角,

$$\therefore \angle DAB = \angle DCB = \angle DEF.$$

$$\because \angle DFE = \angle EFA,$$

$$\therefore \triangle DFE \sim \triangle EFA.$$

(2) 由 (1) 知 $\triangle DFE \sim \triangle EFA$,

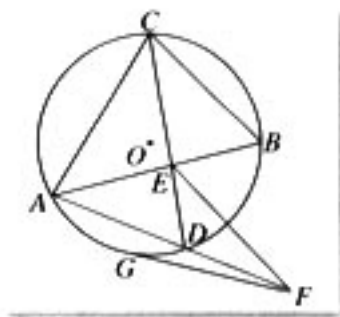


图 2-29

$$\therefore \frac{EF}{FA} = \frac{FD}{EF}, \text{ 即 } EF^2 = FA \cdot FD.$$

\because FG 是圆的切线,

$$\therefore FG^2 = FA \cdot FD.$$

$$\therefore FG^2 = EF^2, \text{ 即 } FG = EF.$$

例3 如图2-30, 两圆相交于A、B两点, P为两圆公共弦AB上任一点, 从P引两圆的切线PC、PD, 求证: $PC = PD$.

证明: 由切割线定理可得:

$$PC^2 = PA \cdot PB, PD^2 = PA \cdot PB.$$

$$\therefore PC^2 = PD^2.$$

$$\text{即 } PC = PD.$$

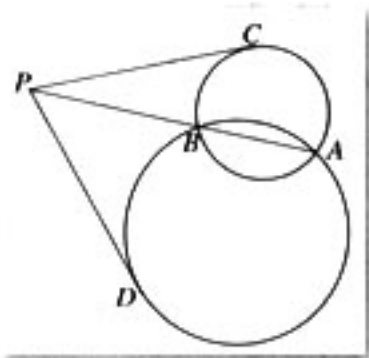


图 2-30

例4 如图2-31, AB 是 $\odot O$ 的直径, 过A、B引两条弦AD和BE, 相交于点C. 求证: $AC \cdot AD + BC \cdot BE = AB^2$.

证明: 连接AE、BD, 过C作 $CF \perp AB$, 与AB交于F.

\because AB 是圆的直径,

$$\therefore \angle AEB = \angle ADB = 90^\circ.$$

$$\therefore \angle AFC = 90^\circ,$$

\therefore A、F、C、E 四点共圆.

$$\therefore BC \cdot BE = BF \cdot BA. \quad (1)$$

同理可证 F、B、D、C 四点共圆.

$$\therefore AC \cdot AD = AF \cdot AB. \quad (2)$$

(1)+(2)得

$$AC \cdot AD + BC \cdot BE = AB(AF + BF) = AB^2.$$

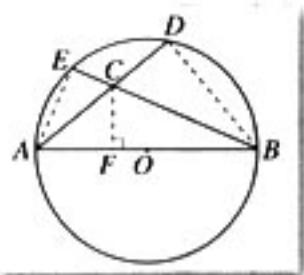


图 2-31

例5 如图2-32, AB 、 AC 是 $\odot O$ 的切线, ADE 是 $\odot O$ 的割线, 连接 CD 、 BD 、 BE 、 CE .

问题1 由上述条件能推出哪些结论?

探究1: 由已知条件可知 $\angle ACD = \angle AEC$,

而 $\angle CAD = \angle EAC$,

$$\therefore \triangle ADC \sim \triangle ACE. \quad (1)$$

$$\therefore \frac{CD}{CE} = \frac{AC}{AE},$$

$$\therefore CD \cdot AE = AC \cdot CE. \quad (2)$$

同理可证

$$BD \cdot AE = AB \cdot BE. \quad (3)$$

因为 $AC = AB$, 所以由 (2) (3) 可得

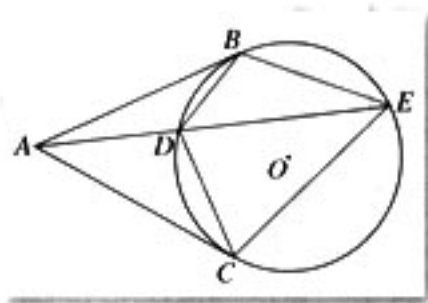


图 2-32

$$BE \cdot CD = BD \cdot CE, \quad (4)$$

你还能推出其他结论吗?

问题 2 在图 2-32 中, 使线段 AC 绕 A 旋转, 得到图 2-33. 其中 EC 交圆于 G , DC 交圆于 F . 此时又能推出哪些结论?

探究 2: 连接 FG , 与探究 1 所得到的结论相比较, 可以猜想 $\triangle ADC \sim \triangle ACE$. 下面给出证明.

$$\because AB^2 = AD \cdot AE, \text{ 而 } AB = AC,$$

$$\therefore AC^2 = AD \cdot AE, \text{ 即 } \frac{AC}{AE} = \frac{AD}{AC}.$$

$$\because \angle CAD = \angle EAC,$$

$\therefore \triangle ADC$ 与 $\triangle ACE$ 两边对应成比例, 夹角相等.

故 $\triangle ADC \sim \triangle ACE$.

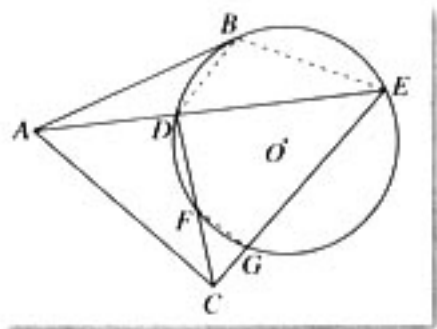


图 2-33

(5)

同探究 1 的思路, 还可得到探究 1 得出的结论 (2) (3) (4).

另一方面, 由于 F 、 G 、 E 、 D 四点共圆,

$$\therefore \angle CFG = \angle AEC.$$

$$\text{又 } \because \angle ACF = \angle AEC,$$

$$\therefore \angle CFG = \angle ACF.$$

$$\therefore FG \parallel AC.$$

(6)

你还能推出其他结论吗?

问题 3 在图 2-33 中, 使 AC 继续绕 A 旋转, 使割线 CFD 变成切线 CD , 得到图 2-34. 此时又能推出什么结论?

探究 3: 可以推出探究 1、2 中得到的 (1)~(6) 的所有结论. 此外,

$$\because AC \parallel DG,$$

$$\therefore \frac{AD}{CG} = \frac{AE}{CE}.$$

$$\therefore AD \cdot CE = AE \cdot CG.$$

$$\because \triangle ACD \sim \triangle AEC,$$

$$\therefore \frac{CD}{CE} = \frac{AD}{AC}.$$

$$\therefore AC \cdot CD = AD \cdot CE.$$

由 (7) (8) 式可得:

$$AC \cdot CD = AE \cdot CG. \quad (9)$$

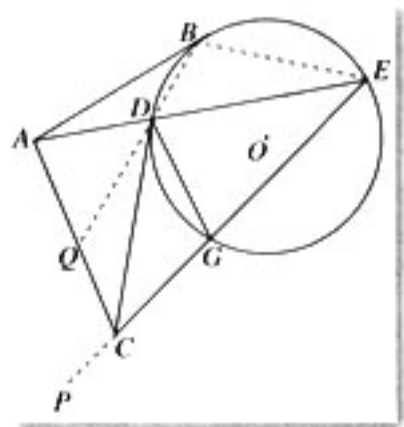


图 2-34

(7)

(8)


连接 BD 、 BE ，延长 GC 到 P ，延长 BD 交 AC 于 Q ，则 $\angle PCQ = \angle PGD = \angle DBE$ ，所以

C 、 E 、 B 、 Q 四点共圆. (10)

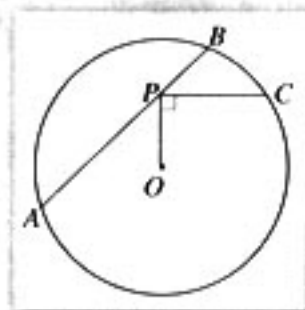
你还能推出其他结论吗?



1. 两弦相交，一弦被分为 12 cm 和 18 cm 两段，另一弦被分为 3:8，求另一弦的长.
2. 如图为一根轴的纵断面图，求这根轴的全长.

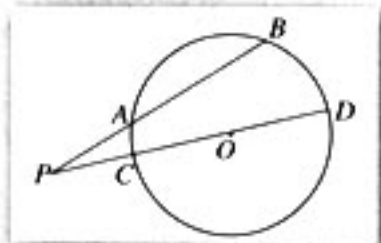


(第 2 题)

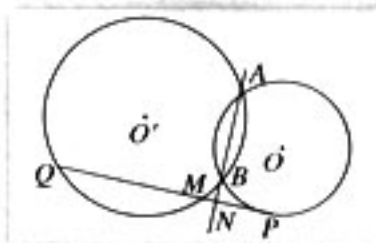


(第 3 题)

3. 如图，点 P 为 $\odot O$ 的弦 AB 上的任意点，连接 PO 。 $PC \perp OP$ ， PC 交圆于 C 。求证： $PA \cdot PB = PC^2$ 。
4. 如图， $\odot O$ 的割线 PAB 交 $\odot O$ 于 A 、 B 两点，割线 PCD 经过圆心。已知 $PA = 6$ ， $AB = 7\frac{1}{3}$ ， $PO = 12$ 。求 $\odot O$ 的半径。
5. 如图， $\odot O$ 和 $\odot O'$ 都经过点 A 和点 B ， PQ 切 $\odot O$ 于点 P 。交 $\odot O'$ 于 Q 、 M ，交 AB 的延长线于 N ，求证： $PN^2 = NM \cdot NQ$ 。



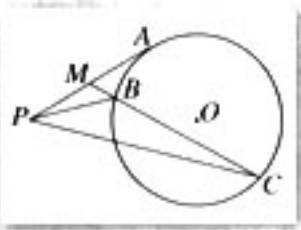
(第 4 题)



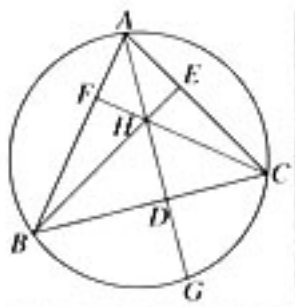
(第 5 题)

6. 如图， PA 是 $\odot O$ 的切线，切点为 A ，过 PA 的中点 M 作割线交 $\odot O$ 于点 B 和 C 。求证： $\angle MPB = \angle MCP$ 。

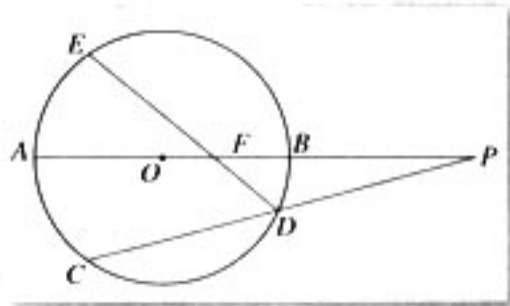
7. 如图, 已知 AD 、 BE 、 CF 分别是 $\triangle ABC$ 三边的高, H 是垂心, AD 的延长线交 $\triangle ABC$ 的外接圆于点 G . 求证: $DH=DG$.



(第6题)



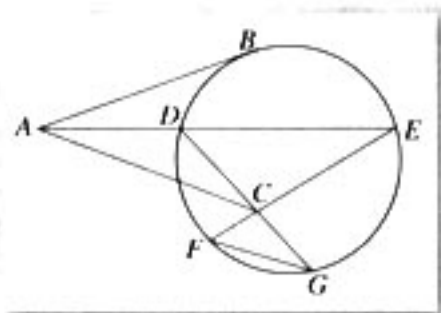
(第7题)



(第8题)

8. 如图, $\odot O$ 的直径 AB 的延长线与弦 CD 的延长线相交于点 P , E 为 $\odot O$ 上一点, $\widehat{AE} = \widehat{AC}$, DE 交 AB 于点 F . 求证: $PF \cdot PO = PA \cdot PB$.

9. 将例 5 的图 2-32 作如下变化: 以 A 为中心, 把 AC 绕 A 逆时针旋转一个角度, 连接 EC 并延长与圆相交于 F , 连接 DC 并延长与圆相交于 G , 连接 FG (如图), 其他条件同例 5. 你能从这个图中推出哪些结论? 如果 $\angle BAD = \angle CAD$, 又有什么结论? (可以在图中增添线段.)



(第9题)

第二讲 小结

1. 知识结构

在本讲中,我们从圆周角定理出发得到了推论 1、推论 2. 又以圆周角定理为基础,推出了圆内接四边形的性质定理和判定定理. 由切线的定义推出圆的切线的性质定理和判定定理. 借助于圆内接四边形性质定理,以圆的切线的性质定理为基础,引出了弦切角的概念和有关性质. 以圆周角定理和相似三角形判定定理为逻辑起点,推出了相交弦定理、割线定理、切割线定理及切线长定理. 知识结构图如下:



2. 数学思想方法

分类思想方法.

所谓分类思想方法,就是依据一定的标准,按照既不重复也不遗漏的原则,将所要研究的对象划分为若干类别,然后通过对每一类别的研究去达到对事物整体研究的目的. 譬如,按角的关系分类,可以将三角形分为钝角三角形、直角三角形和锐角三角形,每种类型的三角形有自身的一些特性,如果不作分类讨论,那么就很难找出这些特性. 另一方面,对一些问题的讨论,必须通过分类才能穷尽各个方面,使得到的结论具有一般性. 请同学们结合圆周角定理、四点共圆判定定理和弦切角定理的证明,谈谈对分类思想方法的体会.

运动变化思想.

在本讲中,我们充分展示了运动变化思想,具体体现为图形的运动变化. 几何中的许多问题源于相同的模型,尽管图形中某些要素的位置关系有差异,但其本质是相同的. 请同学们结合相交弦定理、割线定理、切割线定理、切线长定理之间的关系以及例 5 的探究思路,领悟运动变化思想在数学探究中的作用.

猜想与证明.

数学中的许多定理都是先对一定的典型事例进行观察、实验、类比和归纳后,发现一定的规律性,并提出一个猜想,然后再对猜想的严格证明得来的. 猜想和证明既是数学研究的常用方法,同时又是训练思维的两种重要工具. 本讲在推导许多定理时都使用了这种方法,你能谈谈体会吗?